



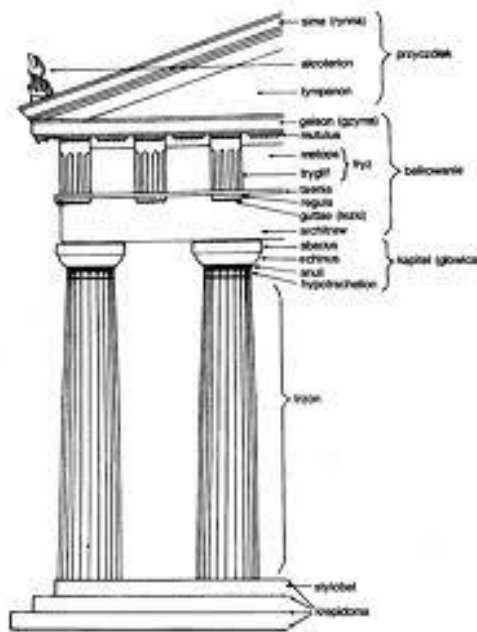
Niepubliczne Liceum Ogólnokształcące nr 81 SGH
TEST EGZAMINACYJNY – 2012 r.

Zadania egzaminacyjne – HISTORIA - wersja A

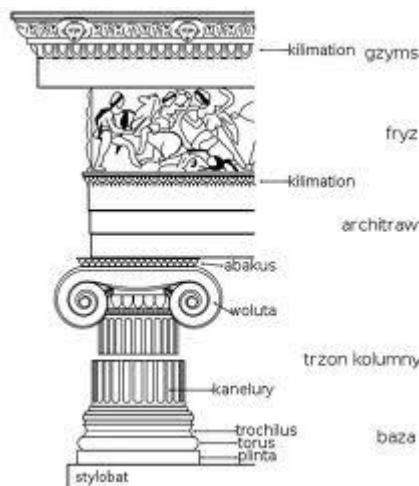
kod ucznia

Zadanie 1. (1 pkt)


Poniżej przedstawione zostały kolumny trzech porządków architektonicznych: korynckiego, doryckiego i jońskiego. W wykropkowanych miejscach napisz, jaka kolumna znajduje się na rysunku.



A



B



<http://www.google.pl/imgres?q=kolumny+greckie&hl=pl&client=firefox->

C

Zadanie 2. (1 pkt)

Przeczytaj poniższy tekst, a następnie napisz, o jakim ustroju jest w nim mowa.

System społeczno – ekonomiczny, który powstał na zachodzie Europy w IX – X w., w państwie Karola Wielkiego, oparty na podziale własności ziemi na własność chłopów i zwierzchnią własność panów, którzy z tytułu zwierzchniej własności narzucali chłopom poddaństwo i rentę.

Ustrój społeczno – polityczny, rozpowszechniony w średniowieczu, który powstał w wyniku przekazywania przez monarchę w lenno uprawnień państwowych swoim urzędnikom jako wasalom, którzy w podobny sposób uzależniali od siebie niższych wasali (z wyjątkiem Anglii). Społeczeństwo przedstawiane jest jako piramida, dół której stanowili chłopci.

.....
.....

Zadanie 3. (1 pkt)

Napisz, które z przedstawionych poniżej budowli sakralnych należą do obrządku prawosławnego. Odpowiedzi umieść pod zdjęciami, w wy kropkowanych miejscach.



<http://www.google.pl/imgres?imgurl=http://upload.wikimedia.org/wikipedia/commons/thumb/4/41/>

A.....




<http://www.google.pl/search?q=&ie=utf-8&oe=utf-8&aq=t&rls=org.mozilla:pl:official&client=firefox-a>

B



<http://www.google.pl/search?q=&hl=pl&client=firefox->

C



<http://pl.wikipedia.org/w/index.php?title=Plik:JPG&filetimestamp=20070304132815>

D

Zadanie 4. (1 pkt)

Wyjaśnij, co nazywamy Reformacją ?

.....
.....

Zadanie 5. (1 pkt)

Napisz o jakim państwie mówi poniższy tekst:

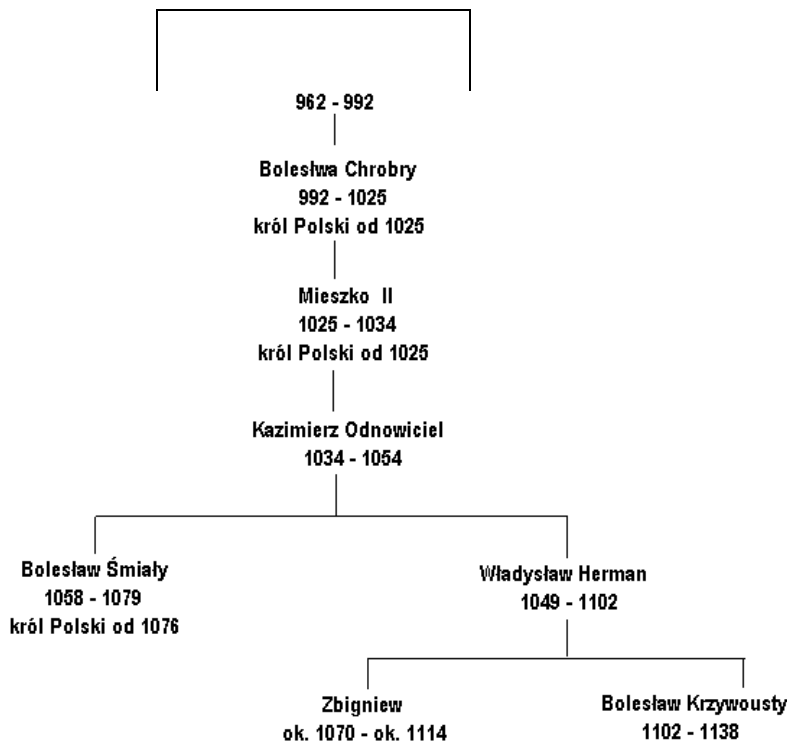
Dagome iudex (późniejszy odpis)

„Podobnie w innym tomie z czasów papieża Jana XV Dagome, pan i Ote pani i synowie ich Mieszko i Lambert (nie wiem jakiego plemienia to ludzie, sądzę jednak, że byli to Sardyńcy, ponieważ ci są rządzeni przez czterech „panów”) mieli nadać św. Piotrowi jedno państwo, które zwie się Schinesghe z wszystkimi swymi przynależnościami w tych granicach,/.../”

T. Maresz, K.Juszczak, Historia w źródłach-nie tylko pisanych dla liceum ogólnokształcącego, liceum profilowanego i technikum. Starożytność i średniowiecze 1. Stowarzyszenie Oświatowców Polskich w Toruniu.

Zadanie 6. (1 pkt)

Poniżej przedstawione zostało drzewo genealogiczne Piastów. W wyznaczonym miejscu umieść brakujące imię władcy.



<http://www.edularium.pl/drzewo-genealogiczne-piastow.htm>

Zadanie 7. (1 pkt)

Uporządkuj chronologicznie podane poniżej wydarzenia (od najstarszego – nr 1, do najnowszego – nr 4).

Tak zwany testament Bolesława Krzywoustego	
Bitwa pod Grunwaldem	
Najazd Tatarów na Polskę	
Zjazd gnieźnieński	

Zadanie 8. (1 pkt)

Poniżej przedstawiony został obraz Jana Matejki *Rejtan Upadek Polski*. Wyjaśnij, co oznacza wyrażenie „gest Rejtana”?



wikipedia.org/wiki/File:Rejtan_Upadek_Polski_Matejko.jpg

.....

Zadanie 9. (2 pkt)

W drugiej kolumnie podaj daty (rok) następujących wydarzeń:

Wybuch Wielkiej Rewolucji Francuskiej	
Uchwalenie Deklaracji Niepodległości opracowanej przez Thomasa Jeffersona	
Wybuch Insurekcji Kościuszkowskiej	
Trzeci rozbiór Polski	

Zadanie 10. (1 pkt)

W drugiej kolumnie podaj, która z podanych informacji jest prawdziwa /P/, a która fałszywa /F/.

W 1815 roku Napoleon Bonaparte poniósł klęskę w bitwie pod Waterloo	
Po klęsce Napoleona w latach 1848-49 miał miejsce Kongres Wiedeński	
W wyniku postanowień Kongresu Wiedeńskiego utworzone zostało Księstwo Warszawskie	

Zadanie 11. (1 pkt)

Poniżej zamieszczono wiersz *Katechizm polskiego dziecka* autorstwa Władysława Bełzy. Wyjaśnij, czy wiersz ten powstał przed trzecim rozbiorem, czy w okresie zaborów? Uzasadnij swoją odpowiedź.

— *Kto ty jesteś?*

- *Polak mały.*

— *Jaki znak twój?*

— *Orzeł biały.*

— *Gdzie ty mieszkasz?*

— *Między swemi.*

— *W jakim kraju?*

— *W polskiej ziemi.*

— *Czem ta ziemia?*

— *Mą Ojczyzną.*

— *Czem zdobyta?*

— *Krwią i blizną.*

— *Czy ją kochasz?*

— *Kocham szczerze.*

— *A w co wierzysz?*

— *W Polskę wierzę!*

— *Coś ty dla niej?*

— *Wdzięczne dziecię.*

— *Coś jej winien?*

— *Oddać życie.*

http://pl.wikisource.org/wiki/Katechizm_polskiego_dziecka

.....

.....

.....

.....

Zadanie 12. (2 pkt)

Uzupełnij tabelę wpisując nazwy partii.

Partia, założona w listopadzie 1892 podczas tzw. zjazdu paryskiego, o charakterze niepodległościowym i socjalistycznym.	
Partia założona na zwołanym w Rzeszowie w lipcu 1895 roku zjeździe przedstawicieli chłopskich komitetów wyborczych. W programie żądano, między innymi, przeprowadzenia reformy ordynacji wyborczej.	
Ugrupowanie o charakterze narodowym utworzone w 1897, na którego czele stanął Roman Dmowski. Program partii zawarty został przede wszystkim w pracy "Myśli nowoczesnego Polaka".	

Zadanie 13. (2 pkt)

Wyjaśnij pojęcia:

Kolonializm

.....
.....

Rewolucja przemysłowa

.....
.....

Zadanie 14. (1 pkt)

Przeczytaj tekst, obejrzyj zdjęcie i wyjaśnij jaki był cel polityki prowadzonej przez władze pruskie.

Michał Drzymała stał się sławny z powodu sporu z władzami pruskimi dotyczącego możliwości zbudowania domu na zakupionej działce. Pruskie prawo wymagało uzyskania zgody administracji państwowej na wzniesienie budynku. Ponieważ władze nie wyraziły zgody na postawienie domu, Drzymała kupił wóz cyrkowy, w którym zamieszkał.



http://www.google.pl/imgres?imgurl=http://cmos.blox.pl/resource/woz_drzymay_ii_919.jpg&imgrefurl=http://cmos.blox.pl/2010/02/

.....
.....

Zadanie 15. (1 pkt)

W poniżej zamieszczonej tablicy podane zostały kolonie, które należały do czterech państw europejskich: Wielkiej Brytanii, Niemiec, Francji Włoch. W sąsiedniej kolumnie wpisz nazwę państwa.

Egipt, Nigeria, Złote Wybrzeże	
Algeria, Madagaskar, Indochiny	
Libia, Trypolis, Etiopia	
Togo, Kamerun, Jiaozhou	

Zadanie 16. (1 pkt)

Jakie wydarzenia z historii Polski ilustrują poniższe ilustracje ? Wpisz odpowiedzi w wykropkowanych miejscach.



<http://edukacja.gazeta.pl/edukacja/1,124764,6535071>

.....



<http://pl.wikipedia.org/w/index.php?title=Plik:>

.....



http://pl.wikipedia.org/w/index.php?title=Plik:Polonia_Bitwa.jpg&filetimestamp=20070322181955

.....

Zadanie 17. (1 pkt)

Wśród wymienionych wydarzeń wskaż to, które jest chronologicznie pierwsze wpisując obok niego literę A, a obok ostatniego umieść literę B.

Wojna krymska	
Wojna rosyjsko – japońska	
Wojna secesyjna	
Wojna francusko – pruska	