



**Niepubliczne Liceum Ogólnokształcące nr 81 SGH
TEST EGZAMINACYJNY – 2016**

Zadania egzaminacyjne – GEOGRAFIA – wersja B kod ucznia.....

Punkty...../20

Zadanie 1 (0,5 pkt)

Mapa została wykonana w skali jeden do dwudziestu pięciu tysięcy. Zapisz tę skalę w postaci:

- a) Skali liczbowej.....
- b) Skali liniowej.....
- c) Skali mianowanej.....

Zadanie 2 (1 pkt)

Podziel gleby na strefowe i astrefowe.

mady rzeczne, czarnoziemy, lateryty, bielcowe, rędziny, płowe, brunatne, górskie

Strefowe.....

Astrefowe.....

Zadanie 3 (0,5 pkt)

Zaznacz właściwe dokończenie zdania.

Gorące i suche lata to cecha klimatu:

- A. Umiarkowanego kontynentalnego
- B. Podzwrotnikowego śródziemnomorskiego
- C. Równikowego wilgotnego

Zadanie 4 (0,5 pkt)

Które parki narodowe można zwiedzić będąc w Sudetach?

- A. Babiogórski Park Narodowy, Park Narodowy Gór Stołowych
- B. Bieszczadzki Park Narodowy, Tatrzański Park Narodowy
- C. Park Narodowy Gór Stołowych, Karkonoski Park Narodowy
- D. Magurski Park Narodowy, Pieniński Park Narodowy

Zadanie 5 (0,5 pkt)

Które spośród podanych procesów kształtujących powierzchnię Ziemi należą do procesów zewnętrznych (egzogenicznych)?

- A. wulkanizm
- B. ruchy górotwórcze
- C. wietrzenie
- D. przemieszczanie się płyt litosfery
- E. trzęsienia ziemi

Procesy zewnętrzne.....

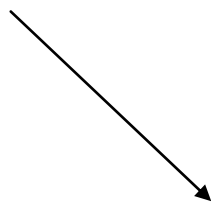
Zadanie 6 (1 pkt)

Oceń, czy poniższe informacje są prawdziwe. Zaznacz P, jeśli informacja jest prawdziwa, lub F – jeśli jest fałszywa.

Izoamplitudy to linie łączące punkty o tej samej wartości opadów	P	F
Izobary to linie łączące punkty o tej samej wartości ciśnienia atmosferycznego	P	F
Stopniami skali Beauforta mierzymy siłę wiatru	P	F

Zadanie 7 (0,5 pkt)

Jaki kierunek wiatru przedstawia na zdjęciu strzałka?



- południowo - zachodni
- południowo - wschodni
- północno - zachodni
- północno - wschodni

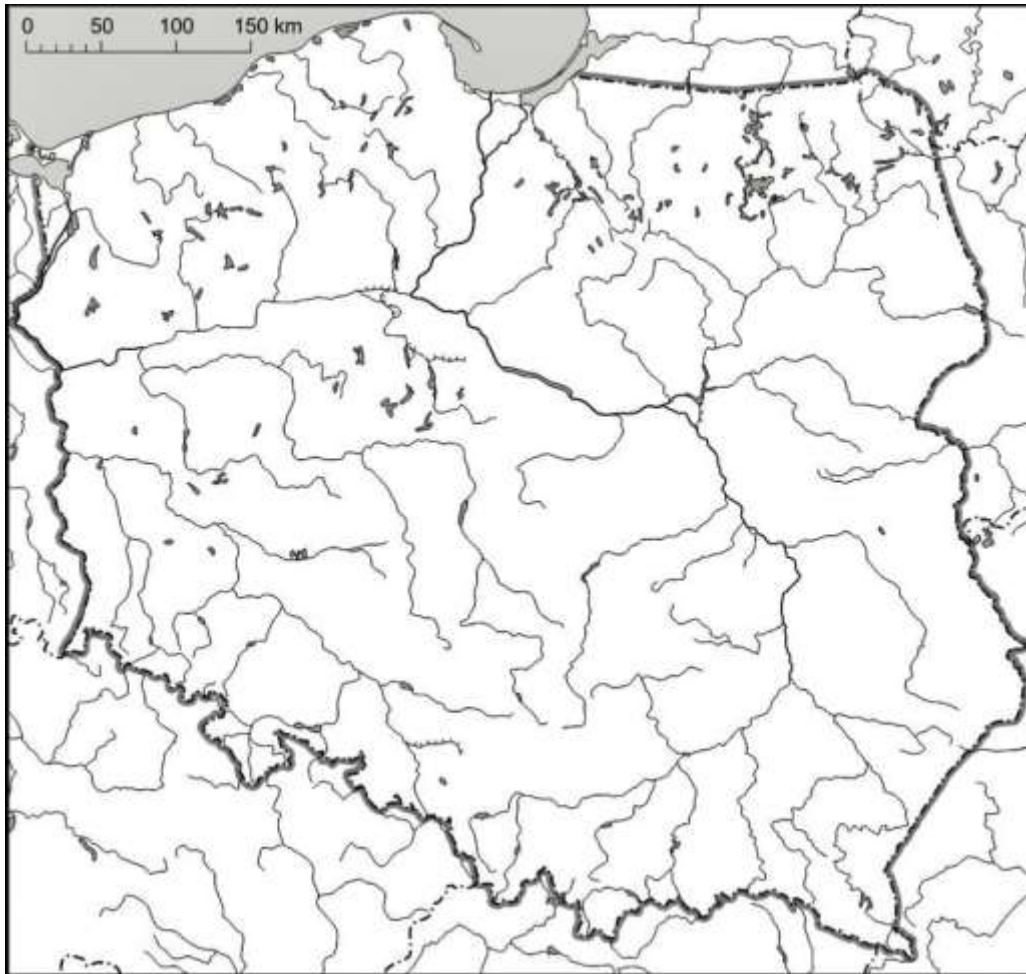
Zadanie 8 (0,5 pkt)

Podaj, gdzie później będzie zachód słońca: w Londynie czy w Moskwie?

Zachód słońca będzie później w:.....

Zadanie 9 (1 pkt)

Zaznacz i podpisz na mapie następujące rzeki: Noteć, Wieprz, Narew.



Zadanie 10 (2 pkt)

Oceń, czy poniższe informacje są prawdziwe. Zaznacz P, jeśli informacja jest prawdziwa, lub F – jeśli jest fałszywa.

Monsun to stały, ciepły, suchy wiatr wiejący w strefie międzyzwrotnikowej	P	F
Bryza wieje na wybrzeżu morskim, zmienia swój kierunek w ciągu dnia i nocy	P	F
Pasat to wiatr sezonowy między oceanem, a lądem	P	F
Fen wieje na wybrzeżu morskim, zmienia swój kierunek w ciągu dnia i nocy	P	F
Halny to lokalna nazwa wiatru wiejącego w Tatrach	P	F

Zadanie 11 (2 pkt)

Oceń, czy poniższe informacje są prawdziwe. Zaznacz P, jeśli informacja jest prawdziwa, lub F – jeśli jest fałszywa.

Spłaszczenie Ziemi na biegunach jest następstwem ruchu obiegowego Ziemi	P	F
Występowanie dnia i nocy jest następstwem ruchu obiegowego Ziemi	P	F
Zmiana czasu miejscowego jest następstwem ruchu obrotowego Ziemi	P	F
Występowania zjawiska dnia i nocy polarnych jest następstwem ruchu obiegowego Ziemi	P	F
Zmiana miejsc wschodów i zachód Słońca jest następstwem ruchu obiegowego Ziemi	P	F
Zmiana kątów padania promieni słonecznych jest następstwem ruchu obiegowego Ziemi	P	F

Zadanie 12 (1 pkt)

Podaj przyczyny niskiego przyrostu naturalnego w Europie.

- 1.....
.....
2.....
.....

Zadanie 13 (1 pkt)

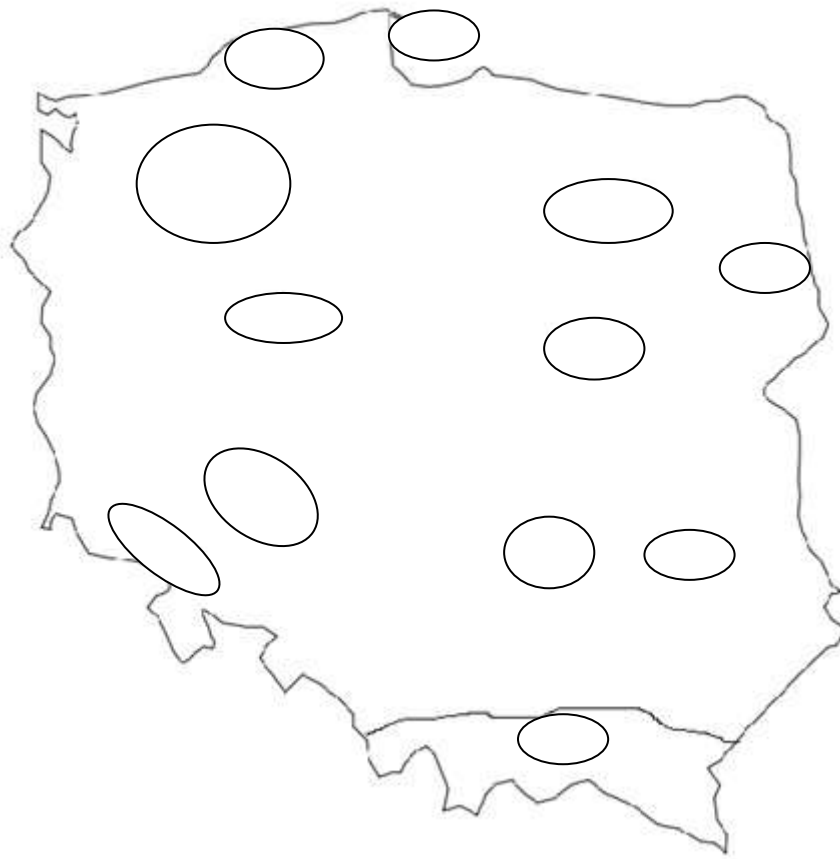
Wpisz obok zdania prawdziwego literę **P**, a obok fałszywego – literę **F**

- A. Sudety powstały w orogenezie alpejskiej.....
- B. Andy to najwyższe pasmo górskie Włoch.....
- C. Sahara jest największą pustynią na półkuli zachodniej.....
- D. Wielkie Góry Wododziałowe to pasmo górskie w Europie

Zadanie 14 (2 pkt)

Wpisz w narysowane kształty nazwy krain geograficznych (podany numer).

1. Sudety
2. Nizina Mazowiecka
3. Wyżyna Lubelska
4. Pojezierze Mazurskie
5. Pojezierze Wielkopolskie



Zadanie 15 (1 pkt)

Jakie funkcje pełnią rzeki?

1.....
.....
2.....
.....
3.....
.....

Zadanie 16 (2 pkt)

Podaj nazwy województw, z którymi sąsiaduje województwo pomorskie (podpisz na mapie nazwy województw).



Zadanie 17 (1 pkt)

Przeczytaj opis i podaj, jaki surowiec występuje w tych rejonach. Wybierz spośród następujących surowców: gaz ziemny, uran, ropa naftowa, węgiel kamienny, węgiel brunatny, rudy żelaza, rudy miedzi, rudy cynku i ołowiu, sól kamienna, siarka.

- A. Wielka kopalnia odkrywkowa tego surowca znajduje się w Bełchatowie. Ten surowiec eksploatowany jest także w rejonie Konina.....
- B. Wielkie złoża tego surowca eksploatowane są na Górnym Śląsku oraz w kopalni Bogdanka na Wyżynie Lubelskiej
- C. Złoża tego surowca eksploatowane są na w rejonie Lubina i Polkowic na Nizinie Śląskiej.....

Zadanie 18 (2 pkt)

Podaj nazwy i stolice zaznaczonych na mapie krajów.

	kraj	stolica
1		
2		
3		
4		
5		
6		

