



**Niepubliczne Liceum Ogólnokształcące nr 81 SGH
TEST EGZAMINACYJNY – 2018 r.**

Zadania egzaminacyjne – GEOGRAFIA – wersja A kod ucznia.....

Punkty...../30:1,5...../20

Zadanie 1 (0,5 pkt)

Który z ruchów Ziemi powoduje następstwo dnia i nocy? (zaznacz właściwą odpowiedź)

1. Ruch obrotowy
2. Ruch roczny
3. Ruch obiegowy

Zadanie 2 (0,5 pkt)

Ziemia jest podzielona na: (zaznacz właściwą odpowiedź)

1. 24 strefy czasowe
2. 12 stref czasowych
3. 6 stref czasowych

Zadanie 3 (0,5 pkt)

Każda strefa czasowa obejmuje pewien obszar między południkami, którego rozciągłość wynosi (zaznacz właściwą odpowiedź):

1. 15°
2. 360°
3. 10°

Zadanie 4 (0,5 pkt)

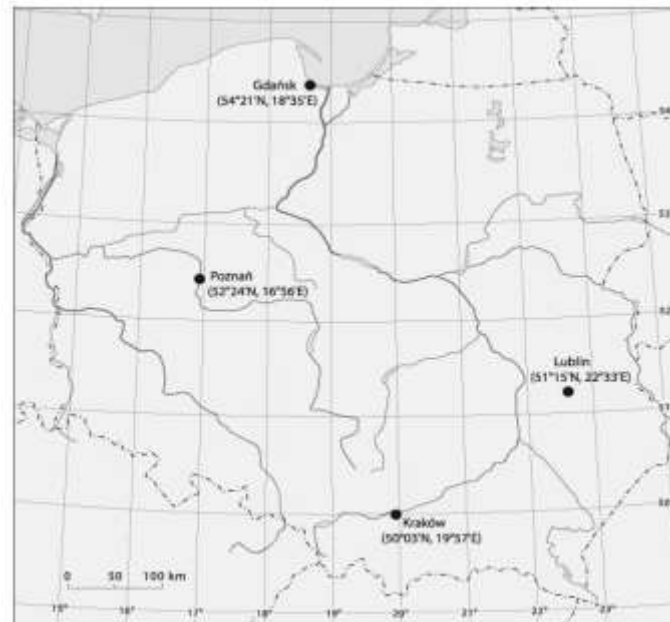
Jak w naszych szerokościach geograficznych nazywamy moment, któremu towarzyszy najdłuższy dzień i najkrótsza noc? (zaznacz właściwą odpowiedź):

1. przesilenie letnie
2. równonoc wiosenna
3. przesilenie zimowe
4. równonoc jesienna

Zadanie 5 (1 pkt)

Na mapie zaznaczono cztery polskie miasta. Podkreśl nazwę miasta, w którym latem dzień jest najdłuższy.

- a) Gdańsk b) Poznań c) Kraków d) Lublin



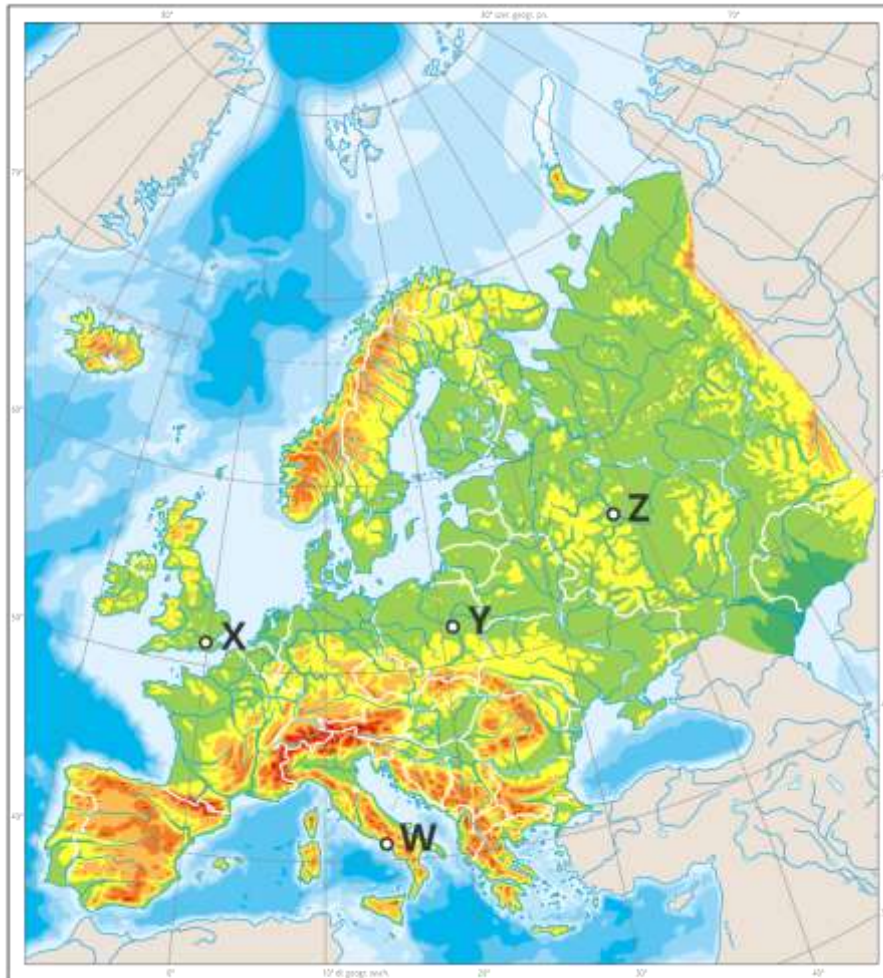
Zadanie 6 (1 pkt)

Przeczytaj opis typu klimatu i podaj, jaki to jest typ klimatu – wybierz spośród podanych poniżej:

Ten typ klimatu nazywa się także oceanicznym, gdyż na kształtowanie się tego typu klimatu wpływa ocean. Lato w Londynie jest chłodne (17°C), zima łagodna ($+5^{\circ}\text{C}$), a średnia roczna amplituda temperatury powietrza jest niewielka. Opady atmosferyczne są dość wysokie i występują we wszystkich porach roku.

1. Klimat podzwrotnikowy morski (śródziemnomorski)
2. Klimat umiarkowany ciepły kontynentalny
3. Klimat umiarkowany ciepły morski
4. Klimat umiarkowany ciepły przejściowy

Zadanie 7 (1 pkt)



Na mapie Europy zaznaczono cztery stacje klimatyczne. Która z nich leży na obszarze objętym klimatem morskim (oceanicznym)?

1. stacja W
2. stacja X
3. stacja Z
4. stacja Y

Zadanie 8 (1 pkt)

Przeczytaj opis i podaj typ ujścia rzeki:

głębokie, rozszerzające się ku morzu (lejek) ujście rzeczne powstające na wybrzeżach o dużych różnicach między przyływem a odpływem, co uniemożliwia osadzanie się materiału rzecznego

.....

Zadanie 9 (1 pkt)

W którym zestawie umieszczono nazwy rzek płynących w Europie Wschodniej?

1. Tamiza, Ren, Dunaj, Wisła
2. Tag, Ebro, Duero, Pad
3. Wołga, Don, Dniepr, Ural

Zadanie 10 (1 pkt)

Podaj nazwę zjawiska:

ognisko trzęsienia ziemi leżące na głębokości od kilku do kilkudziesięciu kilometrów od jej powierzchni

.....

Zadanie 11 (2 pkt)

Oceń, czy poniższe informacje są prawdziwe. Zaznacz P, jeśli informacja jest prawdziwa, lub F – jeśli jest fałszywa.

Sejsmograf to urządzenie służące do odczytu i rejestracji trzęsień ziemi	P	F
Bryza to lokalna nazwa wiatru fenowego w Tatrach	P	F
Gołoborza to nieporośnięte roślinnością stoki gór pokryte rumoszem skalnym powstałym z rozpadu litych skał pod wpływem dużych skoków temperatury	P	F
Korazja to proces niszczenia brzegów przez falującą wodę	P	F

Zadanie 12 (2 pkt)

Oceń, czy poniższe informacje są prawdziwe. Zaznacz P, jeśli informacja jest prawdziwa, lub F – jeśli jest fałszywa.

Izobara to izolinia łącząca na mapie klimatycznej punkty o takiej samej wartości ciśnienia atmosferycznego; izobary mogą łączyć także punkty o takiej samej średniej wartości ciśnienia	P	F
Klif to wysoka, stroma, czasem nawet pionowa ściana brzegu morskiego, ukształtowana w wyniku abrazji	P	F
Wietrzenie mechaniczne to proces doprowadzający do rozkładu skały; możliwe procesy to rozpuszczanie, utlenianie, uwęglanowanie, uwodnienie lub hydroliza	P	F
Inwersja termiczna to zjawisko meteorologiczne zachodzące w dolnej warstwie atmosfery, polegające, odwrotnie niż w zazwyczaj spotykanych warunkach, na wzroście temperatury wraz z wysokością	P	F

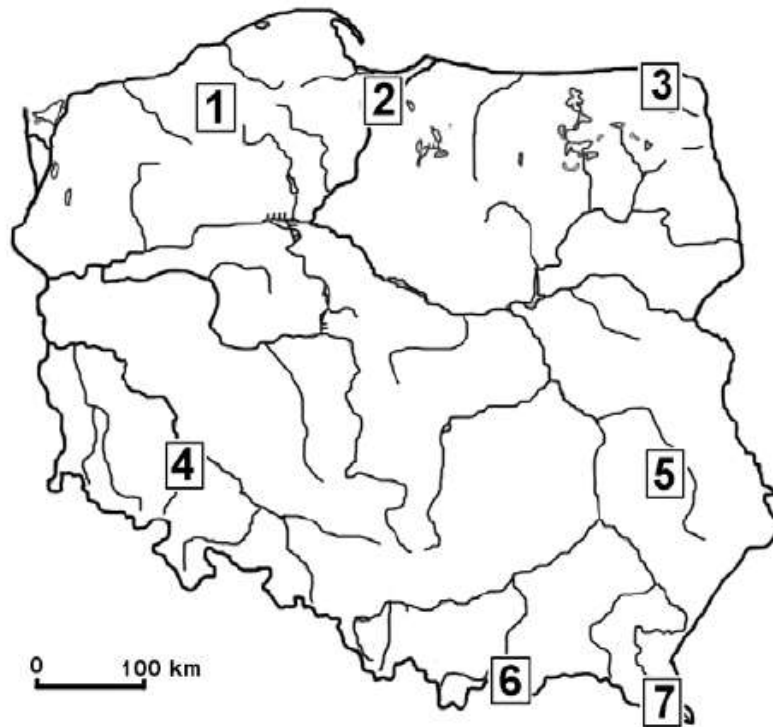
Zadanie 13 (1 pkt)

Wybierz właściwą odpowiedź:

Estuarium to:

1. ognisko trzęsienia ziemi leżące na głębokości od kilku do kilkudziesięciu kilometrów od jej powierzchni
2. rodzaj barometru zapisujący dokonywane pomiary ciśnienia; wyniki są notowane na specjalnej taśmie papierowej zamocowanej na poruszającym się bębnie
3. poszerzone przez pływy morskie ujście rzeki uchodzącej do głębokiego morza

Zadanie 14. (1 pkt)



Korzystając z mapy, podaj nazwy krain geograficznych. Wybierz spośród podanych:

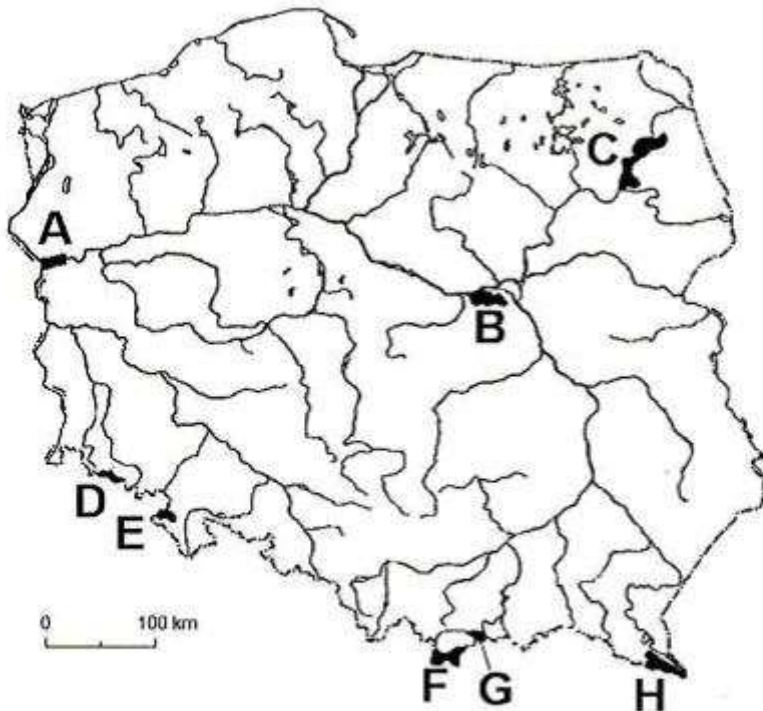
Wyżyna Lubelska, Żuławy Wiślane, Nizina Szczecińska, Nizina Śląska, Pieniny, Bieszczady, Pojezierze Kujawskie, Pojezierze Suwalskie, Wyżyna Kielecka, Tatry, Karkonosze

2.....

5.....

7.....

Zadanie 15. (2 pkt)



Na podstawie: *Atlas geograficzny Polski*, Warszawa 2007.

Podaj literę, gdzie znajdują się następujące parki narodowe:

- Park Narodowy Ujścia Warty.....
- Bieszczadzki Park Narodowy.....
- Pieniński Park Narodowy.....

Zadanie 16. (2 pkt)

Wyjaśnij pojęcia:

- Przyrost naturalny.....
.....
.....
- Saldo migracji.....
.....
.....

Zadanie 17 (1 pkt)

Wskaż właściwy przebieg zmian liczby ludności Europy na tle liczby ludności świata w ostatnich kilkudziesięciu latach:

1. Liczba ludności Europy maleje, ale jej udział w ogóle ludności świata rośnie.
2. Liczba ludności Europy rośnie i jej udział w ogóle ludności świata też rośnie.
3. Liczba ludności Europy maleje i jej udział w ogóle ludności świata też maleje.
4. Liczba ludności Europy rośnie, ale jej udział w ogóle ludności świata maleje.

Zadanie 18 (1 pkt)

Wskaż właściwe przyczyny starzenia się europejskiego społeczeństwa:

1. wysoki przyrost naturalny i krótki przeciętny czas życia
2. niski przyrost naturalny i długi przeciętny czas życia
3. wysoki przyrost naturalny i długi przeciętny czas życia
4. niski przyrost naturalny i krótki przeciętny czas życia

Zadanie 19 (1 pkt)

Podaj, w którym zestawie umieszczono 4 nazwy państw leżących nad Morzem Bałtyckim:

1. Mołdawia, Ukraina, Białoruś, Bułgaria
2. Wielka Brytania, Norwegia, Islandia, Irlandia
3. Austria, Szwajcaria, Białoruś, Słowacja
4. Finlandia, Estonia, Litwa, Łotwa

Zadanie 20 (1 pkt)

Wskaż państwa skandynawskie należące do Unii Europejskiej.

1. Szwecja
2. Islandia
3. Finlandia
4. Dania
5. Norwegia

Zadanie 21 (2 pkt)

Podaj przyczyny niskiego przyrostu naturalnego w Polsce.

- 1.....
.....
- 2.....
.....

Zadanie 22 (2 pkt)

Podaj skutki migracji dla krajów napływu migracyjnego:

- 1.....
.....
- 2.....
.....

Zadanie 23 (2 pkt)

Podaj cechy rolnictwa intensywnego:

- 1.....
.....
- 2.....
.....

Zadanie 24 (2 pkt)

Podaj, jakie surowce mineralne eksploatowane są w następujących rejonach:

1. Nizina Śląska – rejon Lubina i Głogowa.....
2. Nizina Wielkopolska – rejon Kłodawy.....
3. Wyżyna Śląska.....