



Niepubliczne Liceum Ogólnokształcące nr 81 SGH  
TEST EGZAMINACYJNY – 2010 r.

**Zadania egzaminacyjne – GEOGRAFIA**

**kod ucznia.....**

**Zadanie 1 (1 punkt)**

Poniżej podano cechy charakterystyczne dla kilku krain geograficznych. Zaznacz ten opis, który dotyczy Wyżyny Lubelskiej.

- a) depresja, brak lasów, teren równinny, liczne kanały i rowy melioracyjne, deficyt wody pitnej;
- b) Puszcza Jodłowa, Jaskinia Raj, zjawiska krasowe, gołoborza;
- c) doliny U-kształtne, jeziora cyrkowe, jaskinie, piętra roślinne;
- d) rzeźba falista i pagórkowata, krajobraz rolniczy, wąwozy lessowe.

**Zadanie 2 (1 punkt)**

Wymień 3 parki narodowe pasa pojezierzy

- 1.....
- 2.....
- 3.....

**Zadanie 3 (2 punkty)**

Wyjaśnij pojęcia:

Przyrost rzeczywisty.....

.....

Dział wodny.....

.....

**Zadanie 4 (2 punkty)**

Podaj nazwę kraju, na terytorium którego położone są:

Płw. Labrador.....

Appalachy.....

Rzeka Murray-Darling.....

Jezioro Bajkał.....

Płw. Krym.....

**Zadanie 5 (2 punkty)**



Podaj nazwy zaznaczonych krajów i ich stolice

	kraj	stolica
1		
2		
3		
4		
5		

**Zadanie 6 (1 punkt)**

Które z podanych form są charakterystyczne dla Pojezierza Mazurskiego?

Formy:

*Wąwozy lessowe, jaskinie, moreny czołowe, doliny U-kształtne, wietrzenie mrozowe, drumliny, jeziora morenowe, jeziora rynnowe*

Charakterystyczne formy Pojezierza Mazurskiego:

.....

**Zadanie 7 (1 punkty)**

Podaj nazwy zaznaczonych półwyspów



Lp.	półwyspy
1	
2	
3	
4	

**Zadanie 8 (1 punkt)**

Podaj nazwy miast wojewódzkich w następujących województwach:

1. Wielkopolskie.....
2. Warmińsko-mazurskie.....
3. Dolnośląskie.....
4. Pomorskie.....

**Zadanie 9 (1 punkt)**

Zaznacz na mapie województwa wymienione w punkcie (*wpisz odpowiednią cyfrę*)



**Zadanie 10 (1 punkty)**

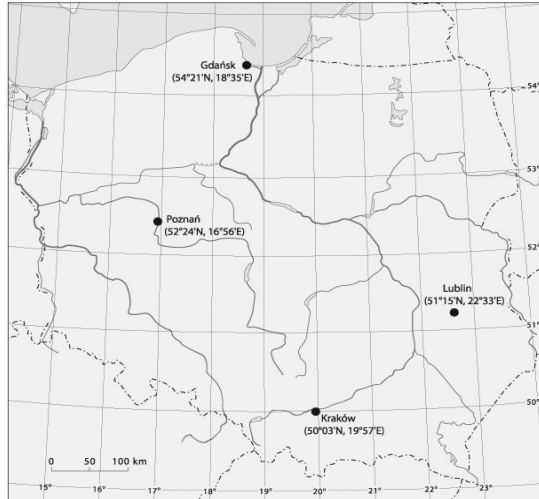
Podaj nazwy obiektów geograficznych na podstawie krótkiego opisu:

1. Na tym półwyspie położone są m. in. Wietnam, Laos, Kambodża  
.....
2. Na tym półwyspie położone są m. in. Oman, Jemen, Zjednoczone Emiraty Arabskie:  
.....
3. Jest to największa zatoka na Morzu Bałtyckim  
.....

**Zadanie 11 (1 punkt)**

Na mapie zaznaczono cztery polskie miasta. Podkreśl nazwę miasta, w którym słońce góruje najwcześniej

- a) Gdańsk      b) Poznań      c) Kraków      d) Lublin



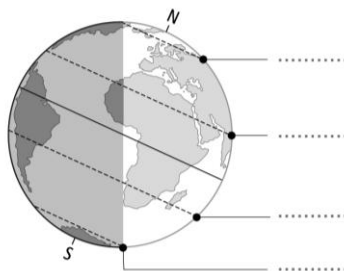
**Zadanie 12 (1 punkt)**

Wyjaśnij, z jakiego powodu wraz ze wzrostem poziomu rozwoju gospodarczego państw rośnie rola usług w tych krajach?

1. ....  
.....  
.....
2. ....  
.....  
.....

**Zadanie 13 (1 punkt)**

Rysunek przedstawia oświetlenie Ziemi w dniu przesilenia letniego. Podkreśl zdanie opisujące to przesilenie.



- a) Słońce góruje w zenicie nad zwrotnikiem Raka. Na półkuli północnej rozpoczyna się zima, a na półkuli południowej lato;
- b) Słońce góruje w zenicie nad zwrotnikiem Koziorożca. Na półkuli północnej rozpoczyna się lato, na półkuli południowej zima;
- c) Słońce góruje w zenicie nad zwrotnikiem Raka. Na biegunie północnym jest dzień polarny, a na biegunie południowym – noc polarna;
- d) Słońce góruje w zenicie nad zwrotnikiem Koziorożca. Na biegunie południowym panuje dzień polarny, a na biegunie północnym – noc polarna.

**Zadanie 14 (1 punkt)**

1. Odległość między miastami A i B wynosi 50 kilometrów. Oblicz odległość pomiędzy tymi miastami na mapie w skali 1: 125 000.

*Miejsce na obliczenia*

Wynik.....

**Zadanie 15 (1 punkt)**

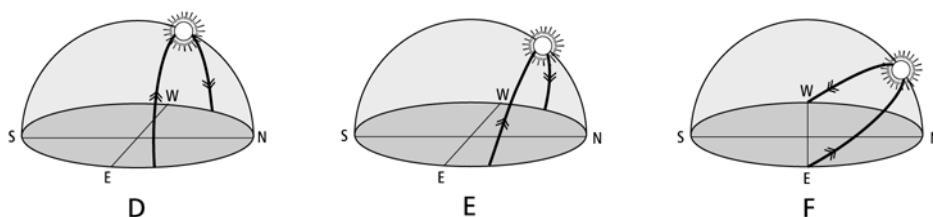
2. Różnica czasu słonecznego między miejscowościami A i B wynosi 8 godzin 24 minuty.  
Oblicz różnicę długości geograficznej między tymi miejscowościami.

*Miejsce na obliczenia*

Wynik.....

**Zadanie 16 (1 punkt)**

Odpowiedz, który rysunek przedstawia widome ruchy Słońca na równiku w dniu 22 czerwca.



Odpowiedź: .....

**Zadanie 17 (1 punkt)**

Podane niżej cechy podziel na charakterystyczne dla klimatu morskiego i kontynentalnego

1. małe dobowe i roczne amplitudy temperatury powietrza;
2. duże dobowe i roczne amplitudy temperatury powietrza;
3. duża wilgotność powietrza;
4. znaczne zachmurzenie;
5. gorące i suche lata;
6. mroźne i suche zimy;
7. opady poniżej 500 mm.

Klimat morski.....

Klimat kontynentalny.....