



Niepubliczne Liceum Ogólnokształcące nr 81 SGH  
TEST EGZAMINACYJNY – 2011 r.

Zadania egzaminacyjne – GEOGRAFIA – wersja A kod ucznia .....

Zadanie 1. (2 punkty)

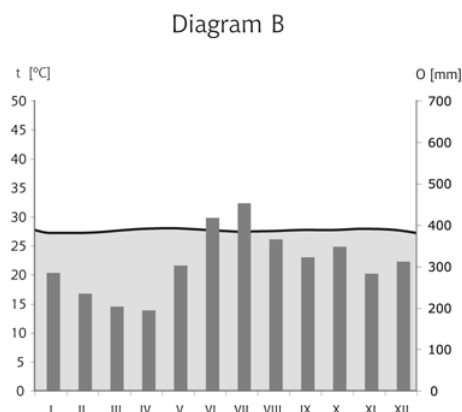
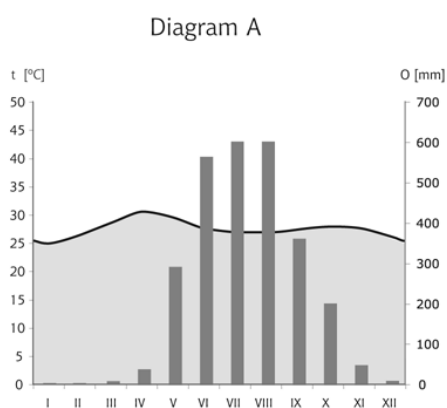
Przyporządkuj podanym regionom geograficznym odpowiednie formacje roślinne

a)	b)	c)	d)	e)	f)

- |  |                  |
|--|------------------|
| a) Północna część Półwyspu Skandynawskiego | 1. step          |
| b) Nizina Zachodniosyberyjska              | 2. sawanna       |
| c) Wielkie Równiny                         | 3. las równikowy |
| d) Grecja                                  | 4. tajga         |
| e) Kenia                                   | 5. tundra        |
| f) Nizina Amazonki                         | 6. makia         |

Zadanie 2. (2 punkty)

Odpowiedz, który z poniższych klimatogramów przedstawia klimat monsunowy. Na jego podstawie opisz cechy klimatu monsunowego.



Klimat monsunowy jest przedstawiony na diagramie: .....

Korzystając z przedstawionego klimatogramu podaj 2 cechy klimatu monsunowego:

- 1.....  
.....  
2.....  
.....

**Zadanie 3. (2 punkty)**

Na podstawie struktury wieku przedstawionej w tabeli wybierz dwa kraje, które charakteryzują się starością demograficzną społeczeństwa. Ich nazwy wpisz w miejscu przeznaczonym na odpowiedź.

Kraj	Ludność kraju w wieku:			
	19 lat i mniej	20–39 lat	40–60 lat	65 lat i więcej
Meksyk	39,9	32,8	21,8	5,5
Włochy	19,0	26,8	34,2	20,0
Indie	45,2	31,0	19,0	4,8
Szwecja	23,7	25,4	33,4	17,5

Źródło: Rocznik Statystyczny Rzeczypospolitej Polskiej 2009, GUS Warszawa 2009, s. 778.

Odpowiedź:

.....

Podaj dwie konsekwencje społeczno-gospodarcze dla rozwoju kraju, w którym występuje struktura wiekowa społeczeństwa starego

1.....

.....

2.....

.....

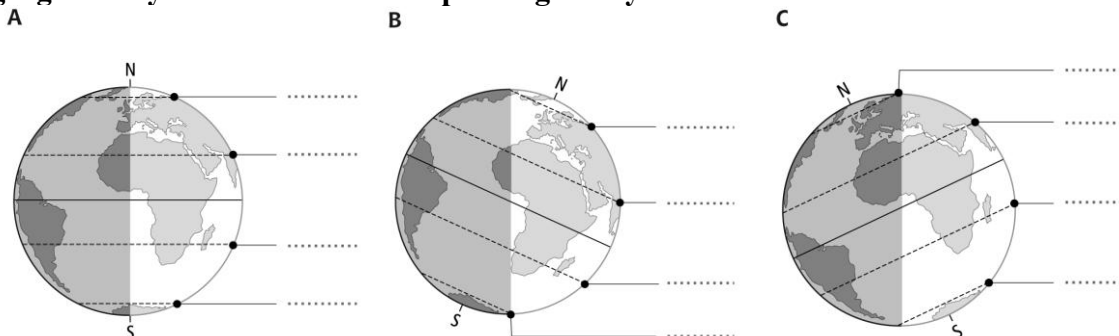
**Zadanie 4. (1 punkt)**

Zaznacz to źródło energii alternatywnej w Polsce, które jest wykorzystywane szczególnie na obszarach Pobrzeża Słowińskiego, wyspy Wolin oraz Suwalszczyzny.

- a) Energia geotermalna    b) Energia biomasy    c) Energia słoneczna    d) Energia wiatru

**Zadanie 5. (1 punkt)**

Odpowiedz, który rysunek przedstawia oświetlenie Ziemi pierwszego dnia kalendarzowego lata na półkuli północnej. Zakreśl na tym rysunku obszary, na których występuje noc polarna. W odpowiednich miejscach wpisz wartość szerokości geograficznych zwrotników i kół podbiegunowych.



Odpowiedź: .....

**Zadanie 6. (2 punkty)**

**Podaj trzy przyczyny występowania głodu w krajach Afryki Środkowej.**

1. ....
2. ....
3. ....

**Zadanie 7. (2 punkty)**

**Wymień dwie przyczyny występowania powodzi w Polsce.**

1. ....  
.....
2. ....  
.....

**Zadanie 8. (1 punkt)**

**Wymienione poniżej nazwy rzek przyporządkuj do odpowiedniej grupy:  
*Dunajec, Pilica, Warta, Bzura, Nysa Kłodzka, Raba, San***

- a) Dopływy Wisły: .....
- b) Dopływy Odry: .....

**Zadanie 9. (1 punkt)**

**Podaj, w którym z zaznaczonych na mapie miast**

- a) najwcześniej wzejdzie słońce.....
- b) najdłuższy będzie dzień 22 grudnia.....



**Zadanie 10. (1 punkt)**

Podaj dwie konsekwencje dla naszego kraju wyjazdów zarobkowych Polaków do Niemiec po 1 maja 2011 r.

1.....

.....

2.....

.....

**Zadanie 11. (1 punkt)**

Fotografie przedstawiają obiekty turystyczne. Pod każdą z fotografii wpisz nazwę obiektu oraz państwo, w którym on się znajduje. Nazwy te wybierz spośród podanych poniżej.



**Obiekty:** Partenon, piramida Cheopsa, Bazylika św. Piotra, Wielki Mur Chiński

**Kraje:** Chile, Watykan, Egipt, Grecja, Chiny

Obiekt A.....

Obiekt B.....

Kraj .....

Kraj .....

**Zadanie 12. (1 punkt)**

Odpowiedz, które z poniższych podpunktów dotyczą następstw ruchu obiegowego Ziemi.

- a) zjawisko dnia i nocy,
- b) istnienie pór roku,
- c) spłaszczenie Ziemi na biegunach,
- d) różna odległość Ziemi od Słońca.

Odpowiedź: .....

**Zadanie 13. (1 punkt)**

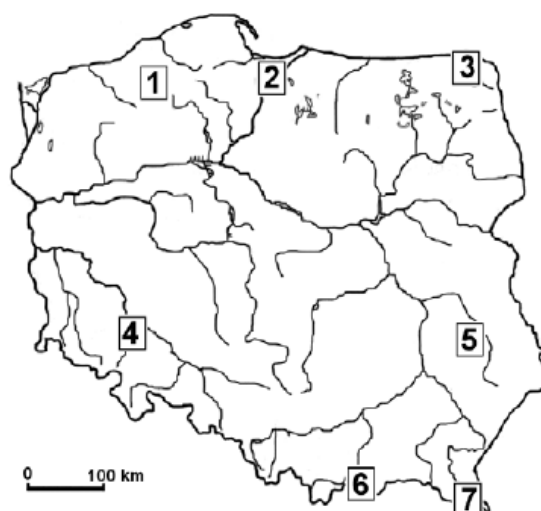
Spośród poniżej wymienionych miast wybierz i wpisz do tabeli te, które powstały na wybrzeżach kontynentów. Obok każdego z tych miast wpisz państwo, w którym to miasto się znajduje.

Nowy Orlean, Pekin, Madryt, Moskwa, Mediolan, Szanghaj, Rotterdam, Wiedeń.

Miasto	Państwo
1	
2	
3	

**Zadanie 14. (1 punkt)**

Na mapie zaznaczono wybrane krainy geograficzne.



Przyporządkuj do numerów w tabeli nazwy krain geograficznych wybrane z poniższych. Bieszczady, Pieniny, Nizina Śląska, Wyżyna Śląska, Wyżyna Lubelska, Żuławy Wiślane, Pojezierze Suwalskie, Nizina Wielkopolska, Kotlina Warszawska

Numer na mapie	Kraina geograficzna
2	
3	
4	
7	

**Zadanie 15. (1 punkt)**

**Podaj, na terytorium którego kraju leżą następujące obiekty geograficzne.**

Płw. Floryda.....

Wielkie Góry Wododziałowe.....

Jezioro Bajkał.....

Masyw Centralny.....