



Niepubliczne Liceum Ogólnokształcące nr 81 SGH
TEST EGZAMINACYJNY – 2011 r.

Zadania egzaminacyjne – GEOGRAFIA – wersja B

kod ucznia.....

Zadanie 1. (2 punkty)

Przyporządkuj regionom geograficznym odpowiednie formacje roślinne (2 punkty)

a)	b)	c)	d)	e)	f)

- a) Północna część Kanady
- b) Nizina Wschodnioeuropejska
- c) Pampa (Argentyna)
- d) Południowa Francja
- e) Kenia
- f) Kotlina Kongo

- 1. step
- 2. sawanna
- 3. las równikowy
- 4. tajga
- 5. tundra
- 6. makia

Zadanie 2. (2 punkty)

Odpowiedz, który z diagramów przedstawia klimat kontynentalny. Na jego podstawie podaj dwie cechy klimatu kontynentalnego.

Diagram A

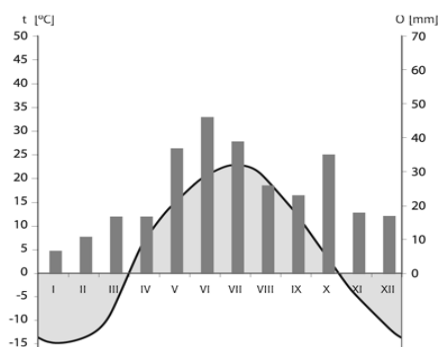


Diagram B

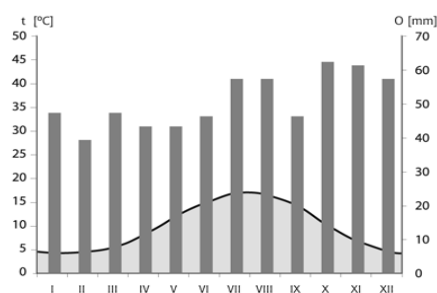


Diagram przedstawiający klimat kontynentalny.....

Cechy klimatu kontynentalnego:

1.....

.....

2.....

.....

Zadanie 3. (2 punkty)

Na podstawie struktury wieku przedstawionej w tabeli wybierz dwa kraje, które charakteryzują się młodością demograficzną społeczeństwa. Ich nazwy wpisz w miejscu przeznaczonym na odpowiedź.

Kraj	Ludność kraju w wieku:			
	19 lat i mniej	20–39 lat	40–60 lat	65 lat i więcej
Meksyk	39,9	32,8	21,8	5,5
Niemcy	19,4	25,0	35,5	20,1
Indie	45,2	31,0	19,0	4,8
Szwecja	23,7	25,4	33,4	17,5

Źródło: Rocznik Statystyczny Rzeczypospolitej Polskiej 2009, GUS Warszawa 2009, s. 778.

Odpowiedź:

.....

Podaj dwie konsekwencje społeczno-gospodarcze dla rozwoju kraju, w którym występuje struktura wiekowa społeczeństwa młodego

1.....

.....

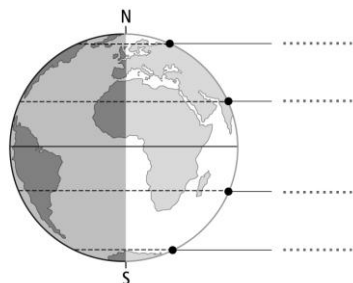
2.....

.....

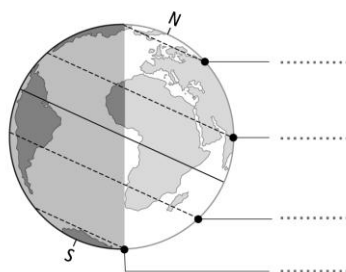
Zadanie 4. (1 punkt)

Odpowiedz, który rysunek przedstawia oświetlenie Ziemi pierwszego dnia kalendarzowego lata na półkuli południowej. Zakresuj na tym rysunku obszary, na których występuje noc polarna. W odpowiednich miejscach wpisz wartość szerokości geograficznych zwrotników i kół podbiegunowych.

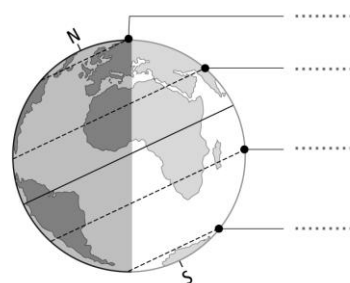
A



B



C



Odpowiedź:

Zadanie 5. (1 punkt)

Rozwój turystyki przynosi znaczne korzyści społeczne i ekonomiczne, ale również różnego rodzaju zagrożenia.

Podaj dwa przykłady korzyści ekonomicznych lub społecznych dla mieszkańców regionów turystycznych.

1.
2.

Zadanie 6. (2 punkty)

Podaj przykłady klęsk żywiołowych występujących w Azji.

1.
2.
3.

Zadanie 7. (1 punkt)

**Wymienione poniżej nazwy rzek przyporządkuj do odpowiedniej grupy:
*Dunajec, Pilica, Warta, Bzura, Nysa Kłodzka, Soła, San***

- a) Dopływy Wisły:
- b) Dopływy Odry:

Zadanie 8. (1 punkt)

Podaj, w którym z zaznaczonych na mapie miast

- a) najpóźniej wejdzie słońce.....
- b) najdłuższy będzie dzień 22 czerwca.....



Zadanie 9. (1 punkt)

Odpowiedz, które z poniższych podpunktów dotyczą następstw ruchu obrotowego Ziemi.

- a) zjawisko dnia i nocy
- b) istnienie pór roku
- c) spłaszczenie Ziemi na biegunach
- d) różna odległość Ziemi od Słońca

Odpowiedź:

Zadanie 10. (1 punkt)

Spośród poniżej wymienionych miast wybierz i wpisz do tabeli te, które powstały na wybrzeżach kontynentów. Obok każdego z tych miast wpisz państwo, w którym to miasto się znajduje.

Tokio, Bombaj, Chicago, Delhi, Meksyk, Rio de Janeiro, Berlin, Budapeszt

Miasto	Państwo
1	
2	
3	

Zadanie 11. (1 punkt)

Podaj, do którego kraju należą:

- Sardynia.....
- Alaska.....
- Korsyka.....
- Kreta.....
- Jawa.....

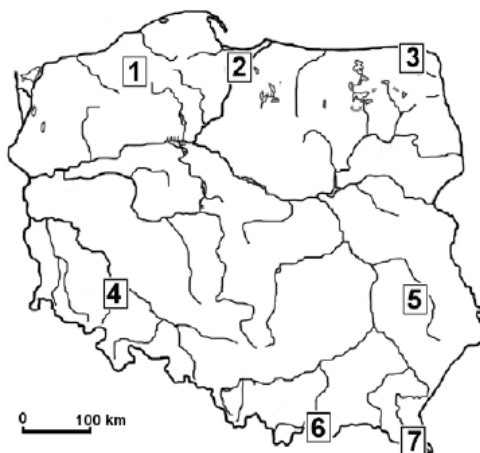
Zadanie 12. (1 punkt)

Podaj nazwy obiektów geograficznych na podstawie krótkiego ich opisu:

- 1. Najgłębsze jezioro świata
- 2. Na tym półwyspie położone są Szwecja i Norwegia.....
- 3. Półwysep na którym położone są Włochy.....
- 4. Góry położone w Europie, których najwyższym szczytem jest Mont Blanc.....

Zadanie 13. (1 punkt)

Na mapie zaznaczono wybrane krainy geograficzne.



Przyporządkuj do numerów w tabeli nazwy krain geograficznych wybrane z poniższych:
Bieszczady, Pieniny, Nizina Śląska, Wyżyna Śląska, Wyżyna Lubelska, Żuławy Wiślane,
Pojezierze Suwalskie, Pojezierze Kujawskie, Nizina Podlaska

Numer na mapie	Kraina geograficzna
3	
5	
6	
7	

Zadanie 14. (2 punkty)

Wymień dwie ujemne strony emigracji Polaków z punktu widzenia interesów naszego kraju

- 1.....
.....
- 2.....
.....

Zadanie 15. (1 punkt)

Które z podanych form są charakterystyczne dla Pojezierza Mazurskiego?

Formy: *wąwozy lessowe, moreny czołowe, jaskinie, doliny U-kształtne, wietrzenie mrozowe, ozy, jeziora morenowe, jeziora cyrkowe.*

Charakterystyczne formy Pojezierza Mazurskiego:

.....

