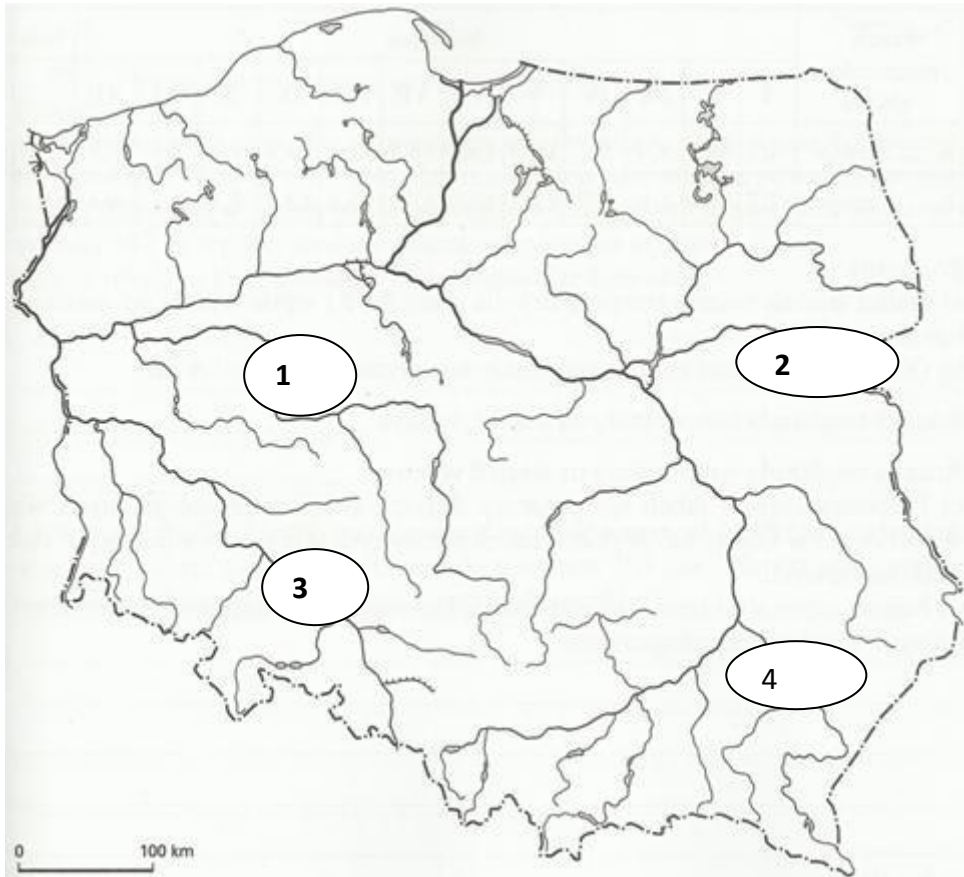




**Niepubliczne Liceum Ogólnokształcące nr 81 SGH
TEST EGZAMINACYJNY – 2017 r.**

Zadania egzaminacyjne – GEOGRAFIA – wersja A kod ucznia

Zadanie 1. (1 pkt)



Podpisz nazwy rzek. Wybierz spośród podanych poniżej:

1.....2.....

3.....4.....

Wisła, Odra, Noteć, Bzura, San, Biebrza, Bug, Warta, Nogat, Pilica,

Zadanie 2. (1 pkt)

Podkreśl nazwę miejscowości, w której najwcześniej jest wschód słońca:

Berlin Warszawa Londyn Moskwa

Zadanie 3. (1 pkt)

Podkreśl nazwę miejscowości, w której 22 grudnia jest najdłuższy dzień:

Łódź Białystok Gdańsk Zakopane

Zadanie 4. (2 pkt)

Spośród poniższych jezior wybierz jeziora polodowcowe.

Gopło, Łebsko, Śniardwy, Hańcza, Jamno, Jezioro Zegrzyńskie, Wigry, Jezioro Sulejowskie

jeziora polodowcowe:

Zadanie 5. (1 pkt)

Zaznacz na mapie województwo świętokrzyskie i podaj nazwę stolicy tego województwa.



Stolica województwa świętokrzyskiego

Zadanie 6. (1 pkt)

Spośród podanych miast Polski wybierz to miasto, w którym zamieszkuje najwięcej mieszkańców.

Łódź Olsztyn Poznań Kraków Gdańsk Katowice

Zadanie 7. (1 pkt)

Podpisz nazwy zaznaczonych krajów.

1.....2.....
3.....4.....

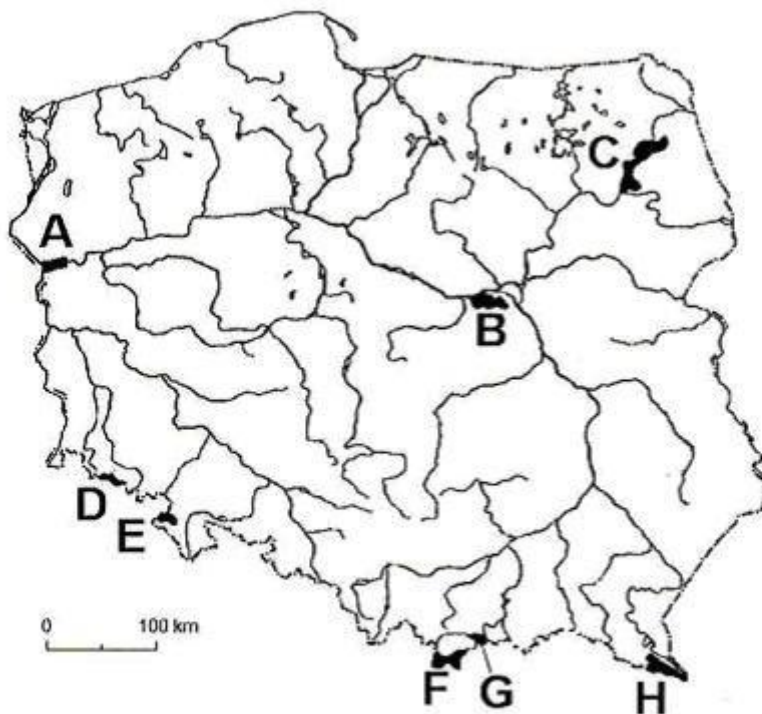


Zadanie 8. (1 pkt)

Podkreśl nazwy obiektów wpisanych na Listę Światowego Dziedzictwa Kulturalnego i Przyrodniczego UNESCO

- a) Stare Miasto w Gdańsku
- b) Stare Miasto w Zamościu
- c) Kopalnia soli w Wieliczce
- d) Stare Miasto w Poznaniu
- e) Drewniane kościoły południowej Małopolski

Zadanie 9. (1 pkt)



Na podstawie: *Atlas geograficzny Polski*, Warszawa 2007.

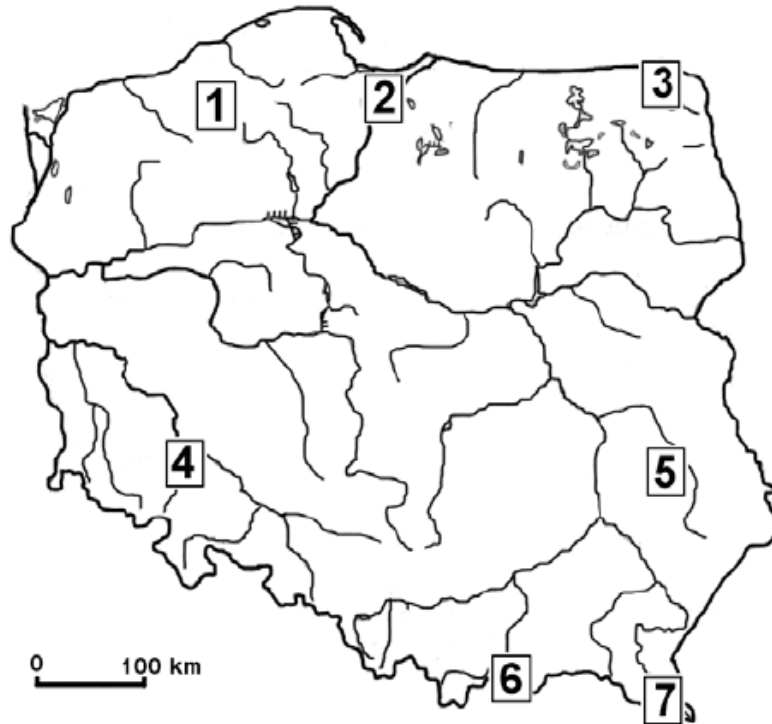
Podaj literę, gdzie znajdują się następujące parki narodowe

Park Narodowy Ujścia Warty

Bieszczadzki Park Narodowy

Karkonoski Park Narodowy

Zadanie 10. (1 pkt)



Podaj nazwy krain geograficznych. Wybierz spośród podanych:

Wyżyna Lubelska, Żuławy Wiślane, Nizina Szczecińska, Nizina Śląska, Pieniny, Bieszczady, Pojezierze Kujawski, Pojezierze Suwalskie, Wyżyna Kielecka

2.....

5.....

7.....

Zadanie 11. (1 pkt)

Podaj skutki gospodarcze i społeczne niskiego przyrostu naturalnego w Europie

1.....

.....

2.....

.....

Zadanie 12. (1 pkt)

Na rysunku przedstawiono urodzenia żywe w Polsce w latach 1946-2013



Źródło: *Małżeństwa i dzietność w Polsce*, GUS Warszawa 2016, s. 5

Podaj przyczyny niskiego poziomu urodzeń od lat 90. XX wieku

- 1.....
- 2.....

Zadanie 13 (1 pkt)

Oceń, czy poniższe informacje są prawdziwe. Zaznacz P, jeśli informacja jest prawdziwa, lub F – jeśli jest fałszywa.

Giewont jest najwyższym szczytem Gór Stołowych	P	F
Największym jeziorem w Sudetach jest Morskie Oko	P	F
W Karkonoskim Parku Narodowym atrakcją turystyczną jest Dolina Chochołowska i Dolina Kościeliska	P	F
Łebsko, Jamno i Gardno to jeziora przybrzeżne	P	F

Zadanie 14. (2 pkt)

Wymień po dwa pozytywne i dwa negatywne skutki migracji zagranicznych (2 pkt)

Pozytywne skutki:

- 1.....
.....
2.....
.....

Negatywne skutki

- 1.....
.....
2.....
.....

Zadanie 15. (1 pkt)

Które z podanych form są charakterystyczne dla Tatr?

Formy:

Wąwozy lessowe, jaskinie, doliny U-kształtne, sandry, kemy, jeziora morenowe, jeziora cyrkowe

Charakterystyczne formy Tatr:

- 1.....2.....3.....
.....

Zadanie 16. (1 pkt)

Oceń, czy poniższe informacje są prawdziwe. Zaznacz P, jeśli informacja jest prawdziwa, lub F – jeśli jest fałszywa.

Na Wyżynie Śląskiej eksploatowany jest węgiel kamienny	P	F
Sól kamienna eksploatowana jest na Pojezierzu Mazurskim	P	F
Miedź jest eksploatowana w rejonie Lubina i Polkowic	P	F
Na Wyżynie Lubelskiej występują złoża wapieni i węgla kamiennego	P	F

Zadanie 17. (2 pkt)

Uzupełnij tabelę. Wpisz w odpowiednie miejsca nazwy stref i typów klimatów, formacji roślinnych oraz charakterystycznych roślin wybrane z podanych poniżej.

Typ klimatu: równikowy wybitnie wilgotny; okołobiegunowy subpolarny; umiarkowany chłodny.

Formacja roślinna: tajga; sawanna; las równikowy.

Charakterystyczne (typowe) rośliny: wysokie trawy, baobaby i akacje; mchy i porosty.

Lp	Strefa i typ klimatu	Formacja roślinna	Charakterystyczne rośliny
1.			kakaowce, liany
2.	podrównikowy wilgotny		
3.		tundra	
4.			świerki, jodły