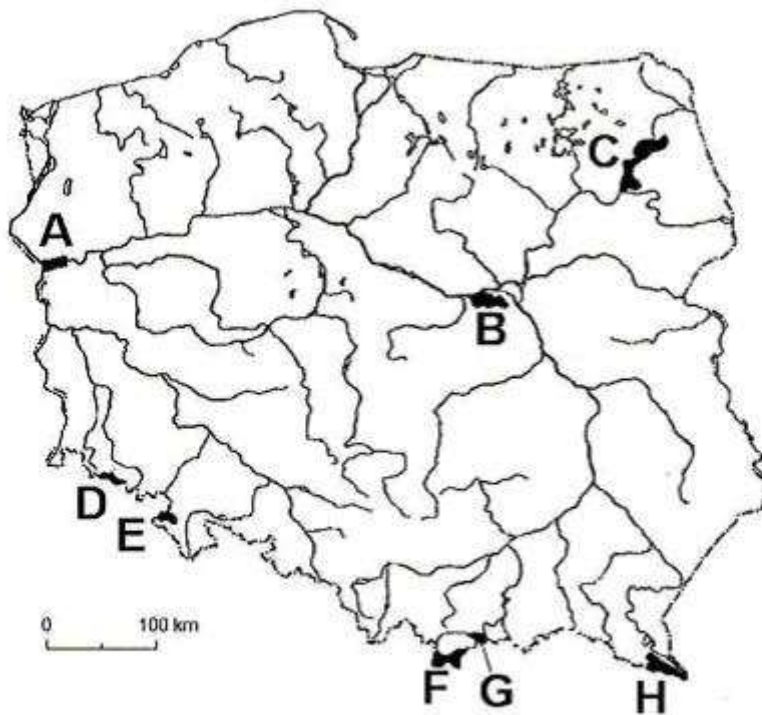




**Niepubliczne Liceum Ogólnokształcące nr 81 SGH
TEST EGZAMINACYJNY – 2017 r.**

Zadania egzaminacyjne – GEOGRAFIA – wersja B kod ucznia

Zadanie 1. (1 pkt)



Na podstawie: *Atlas geograficzny Polski*, Warszawa 2007.

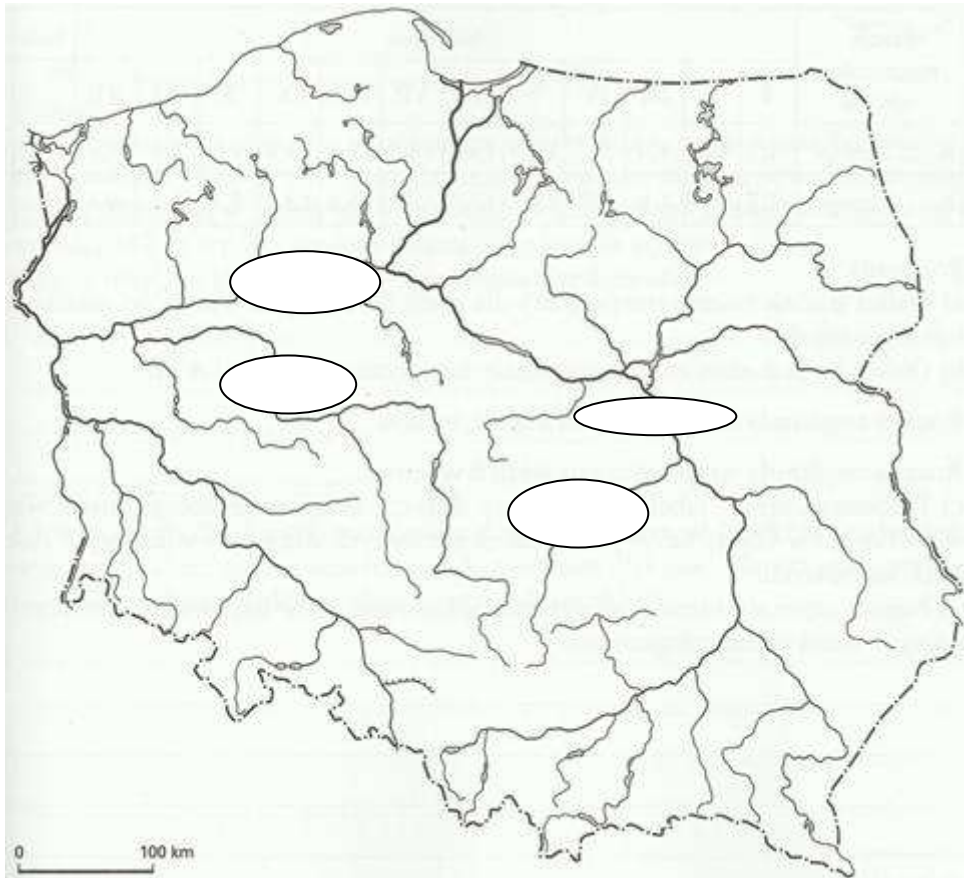
Podaj literę, gdzie znajdują się następujące parki narodowe:

Kampinoski Park Narodowy.....

Park Narodowy Gór Stołowych.....

Pieniński Park Narodowy.....

Zadanie 2 (1 pkt)



Wpisz nazwy rzek. Wybierz spośród podanych poniżej:

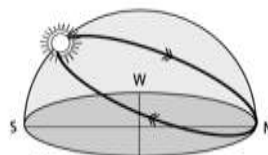
Wisła, Odra, Noteć, Bzura, San, Biebrza, Bug, Warta, Nogat, Pilica,

Zadanie 3 (1 pkt)

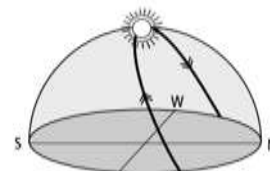
Podaj, który rysunek przedstawia widome ruchy Słońca na biegunie w dniu 22 czerwca.



A

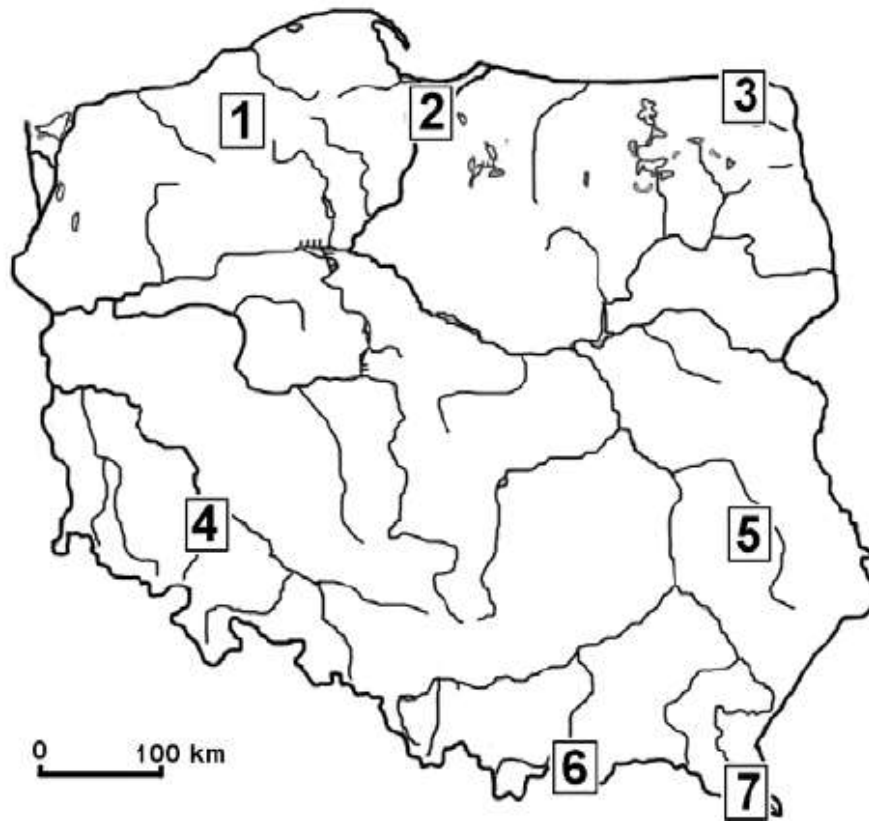


B



C

Zadanie 4 (1 pkt)



Podaj nazwy krain geograficznych. Wybierz spośród podanych:

Wyżyna Lubelska, Żuławy Wiślane, Nizina Szczecińska, Nizina Śląska, Pieniny, Bieszczady, Pojezierze Kujawski, Pojezierze Suwalskie, Wyżyna Kielecka

2.....

5.....

6.....

Odpowiedź:

Zadanie 5 (1 pkt)

Podaj skutki gospodarcze i społeczne niskiego przyrostu naturalnego w Polsce

1.....

.....

2.....

.....

Zadanie 6. (1 pkt)

Podpisz nazwy zaznaczonych krajów

1.....2.....

3.....4.....



Zadanie 7 (2 pkt)

Podaj dwa czynniki, które sprzyjają rozwojowi turystyki na świecie.

1.
.....
.....
2.
.....

Zadanie 8 (1 pkt)

Połącz nazwy oceanów z odpowiadającymi im cechami (wpisz do tabeli odpowiednie cyfry)

- a) Ocean Atlantycki
 - b) Ocean Arktyczny
 - c) Ocean Indyjski
 - d) Ocean Spokojny
1. położony głównie na obszarach okołobiegunowych
 2. największy ocean na kuli ziemskiej
 3. w znacznej części położony jest na półkuli południowej
 4. rozciąga się od Grenlandii po Antarktydę

a)	b)	c)	d)

Zadanie 9 (1 pkt)

Które z podanych form są charakterystyczne dla Pojezierza Mazurskiego?

Formy:

Wąwozy lessowe, jaskinie, doliny U-kształtne, klify, kemy, jeziora morenowe, jeziora cyrkowe, moreny czołowe

Charakterystyczne formy Pojezierza Mazurskiego:

1.2.....3.....

Zadanie 10 (1 pkt)

Oceń, czy poniższe informacje są prawdziwe. Zaznacz P, jeśli informacja jest prawdziwa lub F – jeśli jest fałszywa.

Śnieżka jest najwyższym szczytem Gór Stołowych	P	F
Największym jeziorem w Tatrach jest Morskie Oko	P	F
W Karkonoskim Parku Narodowym atrakcją turystyczną jest przełom Dunajca	P	F
Wyżyna Lubelska zbudowana jest z wapieni	P	F

Zadanie 11 (2 pkt)



Podaj nazwy województw zaznaczonych numerami:

1.....3.....

4.....5.....

Podaj nazwę stolicy województwa oznaczonego numerem 5:

.....

Zadanie 12 (1 pkt)

Oceń, czy poniższe informacje są prawdziwe. Zaznacz P, jeśli informacja jest prawdziwa lub F – jeśli jest fałszywa.

Na Wyżynie Śląskiej eksploatowany jest węgiel brunatny	P	F
Siarka eksploatowana jest na Pojezierzu Mazurskim	P	F
Miedź eksploatowana jest na Wyżynie Kieleckiej	P	F
Na Wyżynie Lubelskiej eksploatowane są rudy żelaza	P	F

Zadanie 13 (1 pkt)

W ostatnich latach znacznie wzrosły migracje do Europy. Podaj przyczyny napływu migracyjnego do Europy.

1.
.....
2.
.....

Zadanie 14 (1 pkt)

Podkreśl nazwę miejscowości, w której najwcześniej jest zachód słońca:

Berlin Paryż Londyn Warszawa

Zadanie 15 (1 pkt)

Podkreśl nazwę miejscowości, w której 22 czerwca jest najkrótszy dzień:

Warszawa Białystok Gdańsk Kraków

Zadanie 16 (2 pkt)

Wyjaśnij pojęcia:

Aglomeracja monocentryczna

.....
.....
.....
.....

Aglomeracja policentryczna

.....
.....
.....
.....