

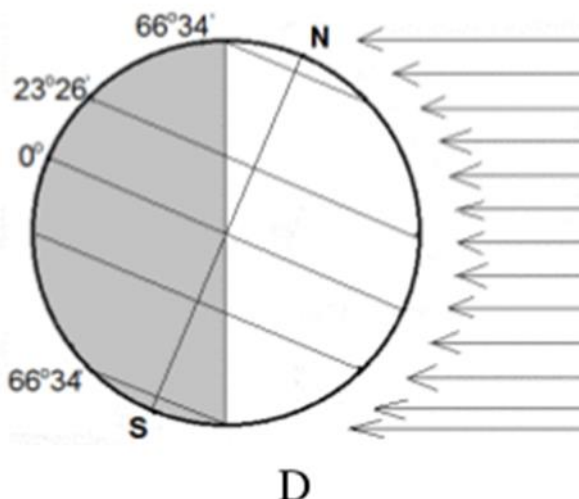
Zadania egzaminacyjne – GEOGRAFIA – wersja A

kod ucznia.....

Punkty...../ 20

Zadanie 1 (1,5 pkt)

Na rysunku przedstawiono oświetlenie Ziemi.



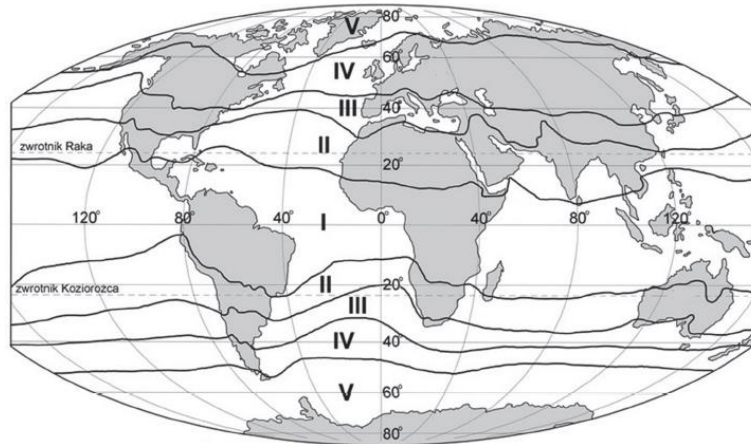
Oceń, czy poniższe informacje są prawdziwe. Zaznacz P, jeśli informacja jest prawdziwa, lub F – jeśli jest fałszywa.

Na rysunku przedstawiono oświetlenie Ziemi w dniu 22 grudnia	P	F
Na rysunku przedstawiono moment, gdy na półkuli północnej za kołem podbiegunowym trwa noc polarna	P	F
Na rysunku przedstawiono moment, gdy na półkuli północnej i południowej dzień i noc trwają po 12 godzin	P	F

Zadanie 2 (1,5 pkt)

Na mapie oznaczono numerami od I do V strefy klimatyczne na Ziemi.

Podaj nazwy stref klimatycznych

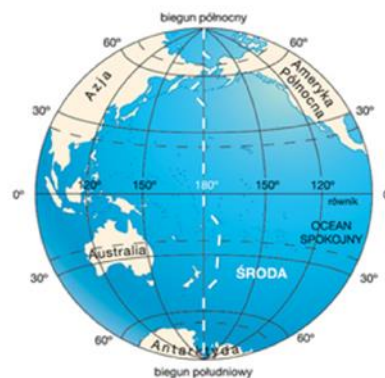


Nr strefy	Nazwa strefy klimatycznej
I	
II	
III	
IV	
V	

Zadanie 3 (0,5 pkt)

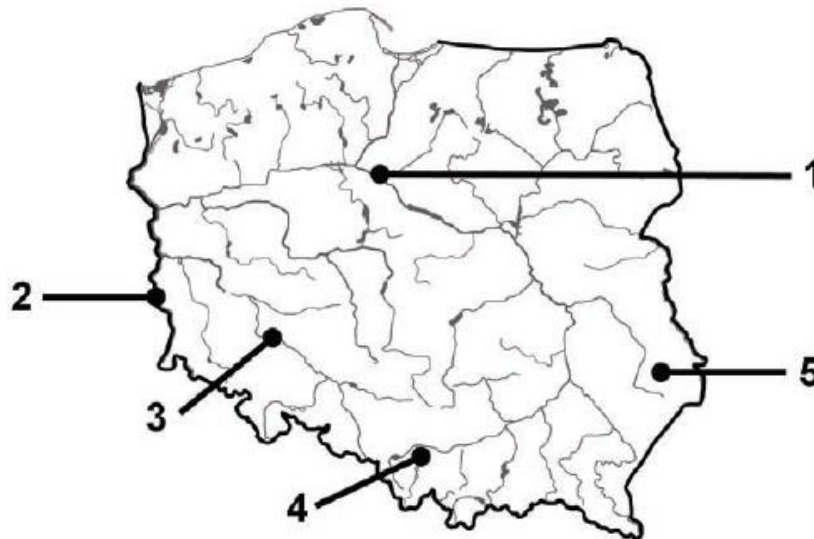
Wzdłuż południka 180° (z pewnymi modyfikacjami) przebiega specyficzna linia o nazwie (zaznacz właściwą odpowiedź):

1. linia południka zerowego
2. linia granicy stref czasowych
3. linia zmiany daty



Zadanie 4 (2 pkt)

Na mapie konturowej zaznaczono numerami 1-5 położenie wybranych obiektów wpisanych na Listę Światowego Dziedzictwa UNESCO. Dwa z nich przedstawiono na fotografiach.



A. Stare Miasto od strony Wisły



B. Renesansowe Stare Miasto

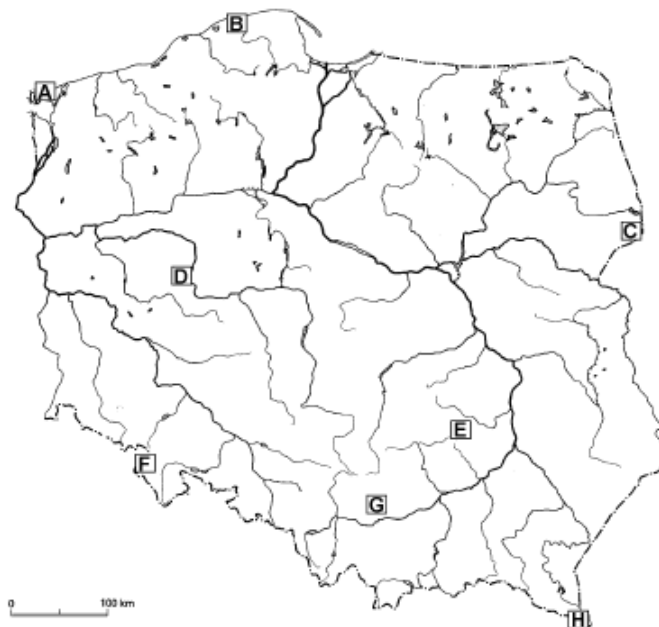
Uzupełnij tabelę, wpisując nazwę miasta, w którym znajduje się obiekt przedstawiony na fotografii oraz numer, którym na mapie oznaczono jego położenie.

Wybierz spośród poniższych: *Wrocław, Toruń, Kraków, Zamość, Oświęcim, Wieliczka, Warszawa*

Fotografia	Miasto	Numer na mapie
A		
B		

Zadanie 5 (2 pkt)

Na mapie zaznaczono literami od A do H położenie wybranych parków narodowych w Polsce



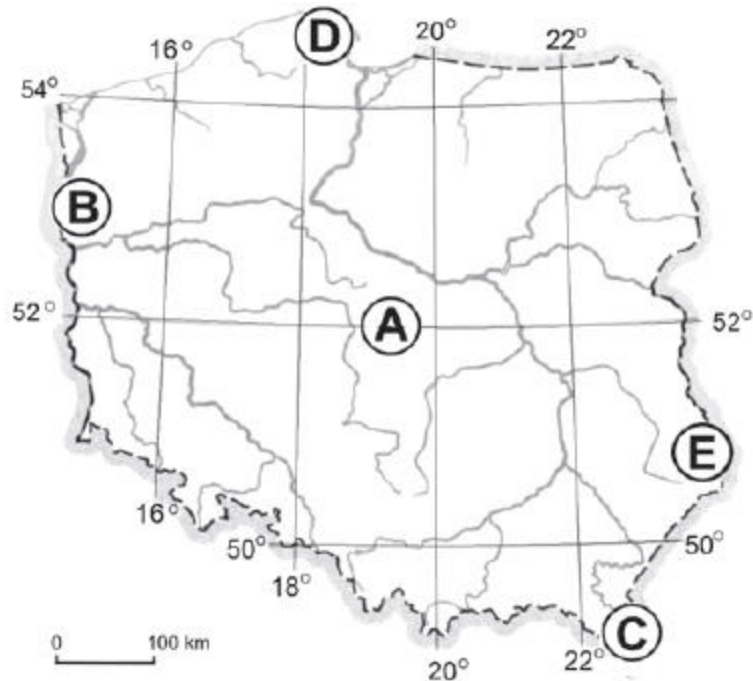
Rozpoznaj parki narodowe na podstawie charakterystycznych elementów ich środowiska przyrodniczego. Wpisz do tabeli nazwy tych parków oraz litery, którymi oznaczono ich położenie na mapie. Nazwy parków wybierz spośród poniższych:

Białowieski, Gór Stołowych, Woliński, Wielkopolski, Bieszczadzki, Gór Świętokrzyskich, Słowiński, Ojcowski

Lp.	Charakterystyczne elementy środowiska przyrodniczego parku narodowego	Nazwa parku narodowego	Litera na mapie
1.	Ostańce krasowe w wapieniach, np. Maczuga Herkulesa		
2.	Połoniny powyżej górnej granicy lasu		
3.	Ruchome wydmy, jeziora przybrzeżne		

Zadanie 6 (2 pkt)

Na mapie literami od A do E oznaczono wybrane obszary Polski.



Oceń, czy poniższe informacje są prawdziwe. Zaznacz P, jeśli informacja jest prawdziwa, albo F – jeśli fałszywa.

Latem na obszarze D noc jest krótsza niż na obszarze C	P	F
Wschód Słońca obserwujemy wcześniej na obszarze E niż na obszarze B	P	F
Zimą na obszarze D dzień jest krótszy niż na obszarze C	P	F
Zachód Słońca obserwujemy wcześniej na obszarze C niż na obszarze D	P	F

Zadanie 7 (2 pkt)

Obok nazwy każdej z wymienionych formacji roślinnych wpisz literę, którą oznaczono typowe dla niej rośliny.

Tundra		A. Dąb, jesion
Tajga		B. Baobab, akacja
Lasy liściaste strefy umiarkowanej		C. Kakaowiec, liana
Sawanna		D. Brzoza karłowata, chrobotek reniferowy
Wilgotne lasy równikowe		E. Świerk, modrzew

Zadanie 8 (1,5 pkt)

Poniższe informacje odnoszą się do urbanizacji i zespołów miejskich położonych w Polsce.

Oceń, czy poniższe informacje są prawdziwe. Zaznacz P, jeśli informacja jest prawdziwa, albo F – jeśli jest fałszywa.

Przykładem aglomeracji policentrycznej (konurbacji) jest zespół miast Gdańsk, Gdynia, Sopot	P	F
Katowice są położone na obszarze aglomeracji monocentrycznej	P	F
Wskaźnik urbanizacji w Polsce wynosi ponad 75% (2020 rok)	P	F

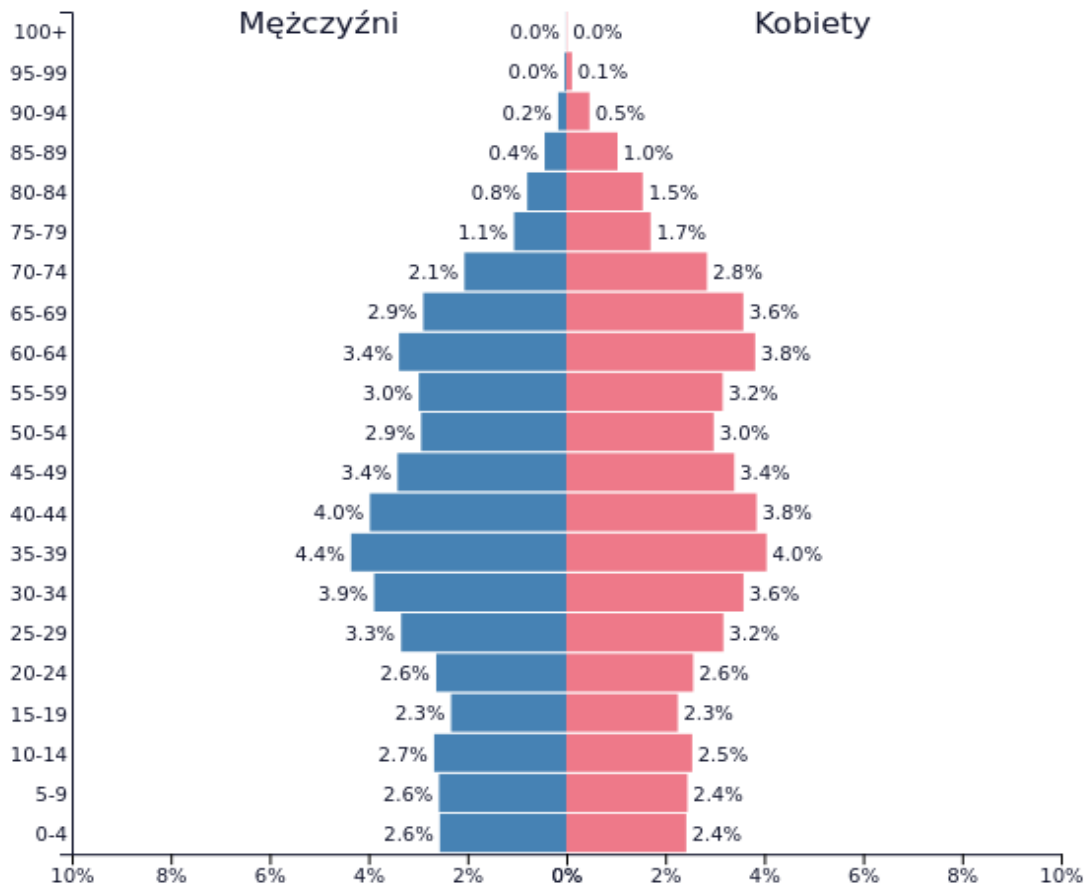
Zadanie 9. (1 pkt)

Podaj skutki gospodarcze i społeczne niskiego przyrostu naturalnego w Europie

- 1.....
.....
- 2.....
.....

Zadanie 10 (1,5 pkt)

Na wykresie przedstawiono strukturę płci i wieku ludności Polski w 2020 roku.

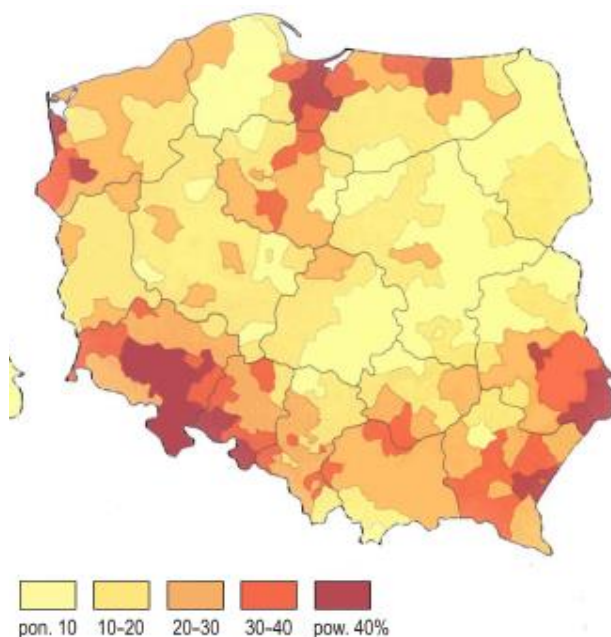


Oceń, czy poniższe informacje są prawdziwe. Zaznacz P, jeśli informacja jest prawdziwa, albo F – jeśli jest fałszywa.

W ciągu ostatnich 10 lat widoczny jest wzrost przyrostu naturalnego	P	F
W starszych grupach wiekowych jest nadwyżka liczby mężczyzn nad liczbą kobiet	P	F
Wyraźne „wybrzuszenie” w piramidzie wieku w rocznikach ludności 30-45 lat jest spowodowane powojennym wyżem demograficznym	P	F

Zadanie 11 (0,5 pkt)

Na mapie przedstawiono strukturę zasiewów jednego ze zbóż. Podaj nazwę tego zboża.



Mapa przedstawia strukturę zasiewów.....

Zadanie 12 (2 pkt)

Oceń, czy poniższe informacje są prawdziwe. Zaznacz **P**, jeśli informacja jest prawdziwa, lub **F** – jeśli jest fałszywa.

Wielkie Równiny znajdują się w Australii	P	F
Najludniejszym kontynentem jest Azja	P	F
Gibraltar to terytorium Wielkiej Brytanii	P	F
W krajach wysoko rozwiniętych większość pracujących zatrudniona jest w przemyśle	P	F

Zadanie 13 (2 pkt)

Na mapie politycznej zaznaczono wybrane państwa.

Podpisz zaznaczone państwa i podkreśl te, które z nich nie należą do Unii Europejskiej

1.....2.....

3.....4.....

5.....6.....

7.....

