

**Zadania egzaminacyjne – GEOGRAFIA – wersja A**

**kod ucznia.....**

**Punkty...../ 20**

**Zadanie 1. (2 pkt)**

W tabeli zapisano błędnie kolejność pięter roślinności w Tatrach. Zapisz we wskazanym miejscu ich poprawną kolejność w kolejności od najniższego (1) do najwyższego piętra (6).

Piętra roślinności w Tatrach - kolejność błędna					
regiel dolny	pogórze	hale	regiel górny	kosodrzewina	Turnie
Piętra roślinności w Tatrach - kolejność poprawna					
<b>1</b>	<b>2</b>	<b>3</b>	<b>4</b>	<b>5</b>	<b>6</b>

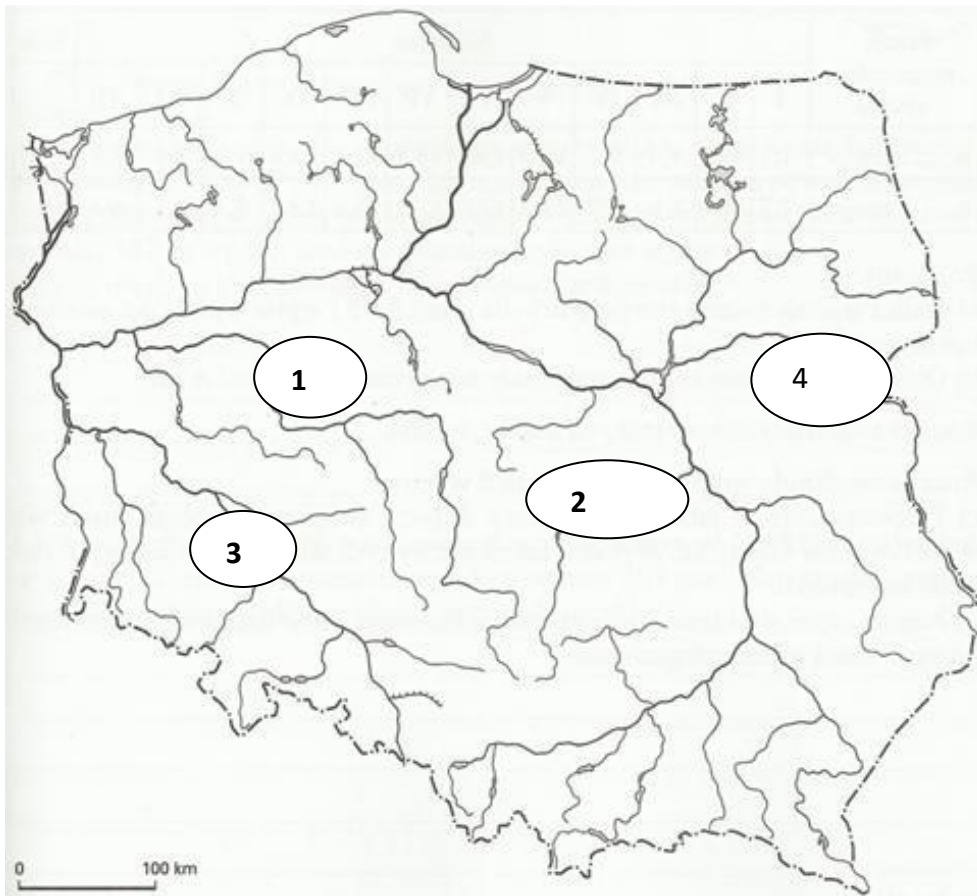
**Zadanie 2. (1 pkt)**

Dokończ zdanie dotyczące uprawy ryżu na obszarach będących pod wpływem klimatu monsunowego. Wybierz A lub B i 1 lub 2.

**Rolnicy sadzą ryż wraz z nadejściem ...**

A	Monsunu letniego,	który przynosi obfite opady deszczu	1	znad oceanu
B	Monsunu zimowego,		2	znad kontynentu

**Zadanie 3. (1 pkt)**



**Podpisz nazwy rzek. Wybierz spośród podanych poniżej.**

1.....2.....  
3.....4.....

Wisła, Odra, Noteć, Bzura, San, Biebrza, Bug, Warta, Nogat, Pilica

**Zadanie 4 (1 pkt)**

**Przeczytaj zdanie i podkreśl poprawną odpowiedź.**

1. Proces niszczenia powierzchni ziemi przez czynniki abiotyczne, czyli promieniowanie słoneczne, wodę i wiatr to: **erozja / krasowienie**
2. Bryza dzienna (morska) wieje: **od morza/ od lądu**

**Zadanie 5 (2 pkt)**

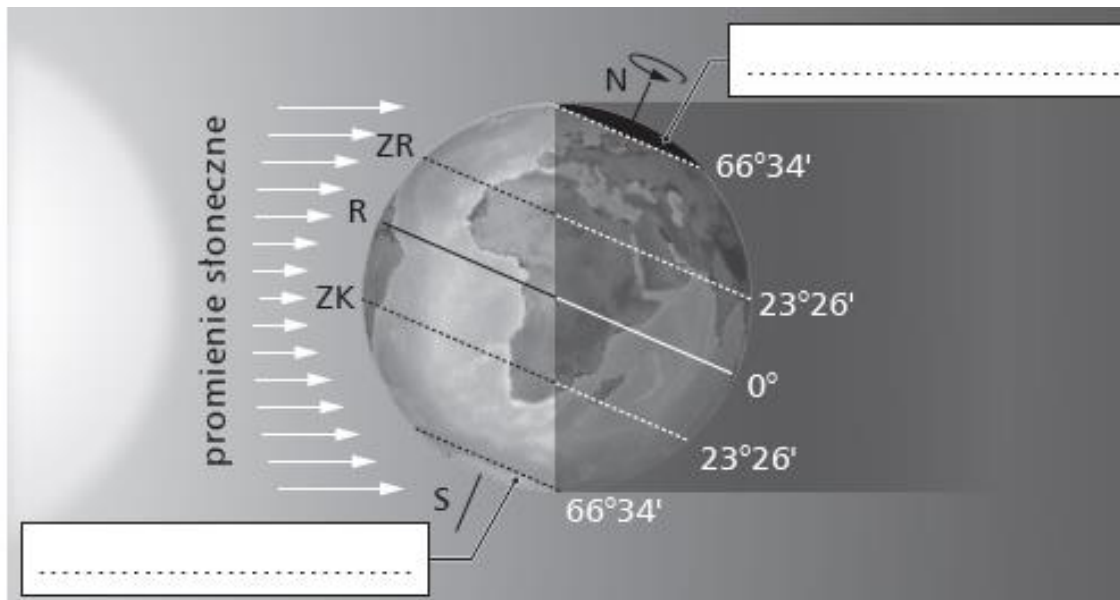
W tabeli podano konsekwencje ruchów Ziemi – obrotowego oraz obiegowego.

Przyporządkuj każdą z podanych konsekwencji do ruchu Ziemi. Wpisz X we właściwe komórki tabeli.

Konsekwencje ruchu Ziemi	Ruch Ziemi	
	obrotowy	obiegowy
Spłaszczenie kuli ziemskiej przy biegunach		
Astronomiczne pory roku		
Zmiana długości dnia i nocy		
Pozorna wędrówka Słońca i innych gwiazd po niebie		

**Zadanie 6 (1 pkt)**

Na rysunku przedstawiono oświetlenie Ziemi w wybranym dniu.



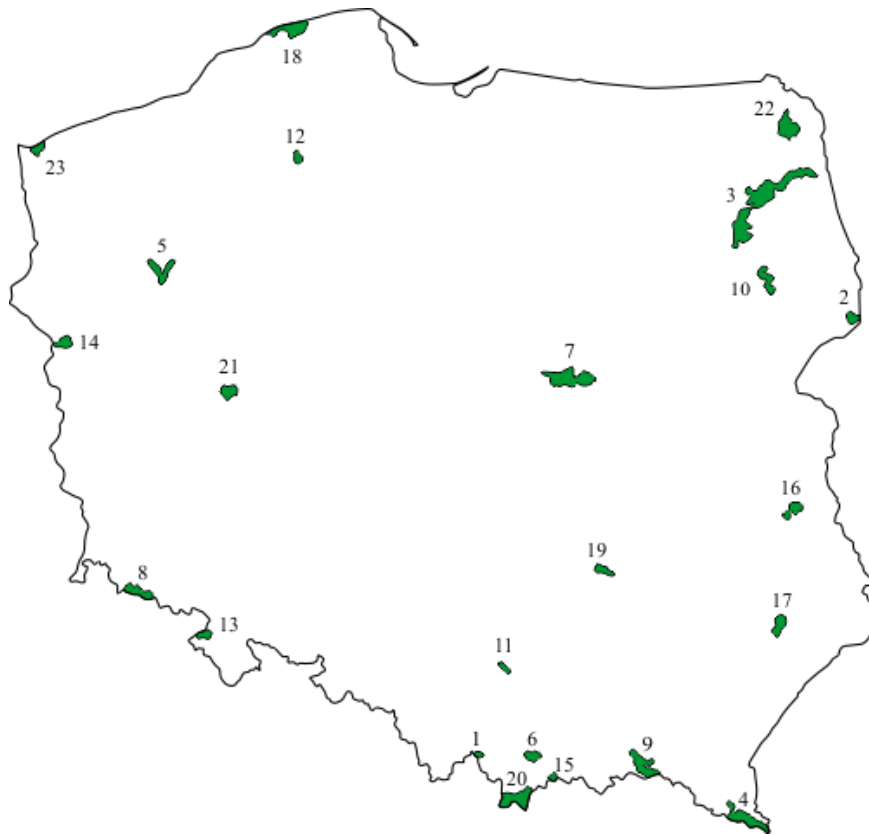
Wykonaj polecenie.

Podaj, w którym dniu tak wygląda oświetlenie Ziemi przez Słońce.

.....

**Zadanie 7 (2 pkt)**

**Mapa przedstawia parki narodowe w Polsce**



**Podaj nazwy parków narodowych oznaczonych numerami. Wybierz spośród podanych poniżej.**

Numer parku	Nazwa parku
4	
7	
11	
20	
23	

- |                               |                                |
|-------------------------------|--------------------------------|
| 1. Białowiecki Park Narodowy  | 6. Park Narodowy Gór Stołowych |
| 2. Bieszczadzki Park Narodowy | 7. Słowiński Park Narodowy     |
| 3. Kampinoski Park Narodowy   | 8. Świętokrzyski Park Narodowy |
| 4. Karkonoski Park Narodowy   | 9. Tatrzański Park Narodowy    |
| 5. Ojcowski Park Narodowy     | 10. Woliński Park Narodowy     |

**Zadanie 8. (1 pkt)**

Jakie są pozytywne skutki rozwoju energetyki opartej na odnawialnych źródłach energii?

.....  
.....  
.....  
.....

**Zadanie 9 (2 pkt)**

Oceń, czy poniższe informacje są prawdziwe. Zaznacz P, jeśli informacja jest prawdziwa, lub F – jeśli jest fałszywa.

Najgłębszym jeziorem świata jest Jezioro Bajkał	<b>P</b>	<b>F</b>
Silę trzęsień Ziemi określa się w skali Beauforta	<b>P</b>	<b>F</b>
Z Azji pochodzi około 90% światowej produkcji ryżu	<b>P</b>	<b>F</b>
Na Bliskim Wschodzie znajduje się około 50% światowych zasobów węgla kamiennego	<b>P</b>	<b>F</b>

**Zadanie 10 (2 pkt)**

Zaznacz w każdym wierszu tabeli literę oznaczającą krainę geograficzną, której dotyczy podana informacja.

- A. Tatry  
C. Żuławy Wiślane  
B. Pojezierze Suwalskie  
D. Wyżyna Krakowsko-Częstochowska

Lp.	Informacja	Kraina geograficzna			
1	Kraina geograficzna, na której obszarze występują liczne jeziora i wzgórza morenowe	<b>A</b>	<b>B</b>	<b>C</b>	<b>D</b>
2	Charakterystycznymi elementami krajobrazu tej krainy są wapienne skałki i jaskinie	<b>A</b>	<b>B</b>	<b>C</b>	<b>D</b>
3	Na obszarze tej krainy są formy polodowcowe i jeziora cyrkowe	<b>A</b>	<b>B</b>	<b>C</b>	<b>D</b>

4	Na obszarze tej krainy znajduje się najniżej położone miejsce w Polsce (1,8 m p.p.m.)	<b>A</b>	<b>B</b>	<b>C</b>	<b>D</b>
---	---	----------	----------	----------	----------

**Zadanie 11 (1 pkt)**

Na mapie przedstawiono występowanie pewnej formacji roślinnej.



Źródło: <https://pl.wikipedia.png>

**Dokończ zdanie – wybierz i zaznacz odpowiedź: A albo B oraz jedną z odpowiedzi: 1. albo 2.**

Na mapie przedstawiono występowanie:

A.	Tundry,	formacji roślinnej, dla której charakterystyczne są	1.	karłowate drzewa, np. brzoza, krzewinki, mchy i porosty.
B.	Tajgi,		2.	lasy iglaste z udziałem sosny, świerka, modrzewia z domieszką także brzozy, topoli.

**Zadanie 12 (1 pkt)**

**Mapa przedstawia rozkład izoterm stycznia w Polsce.**



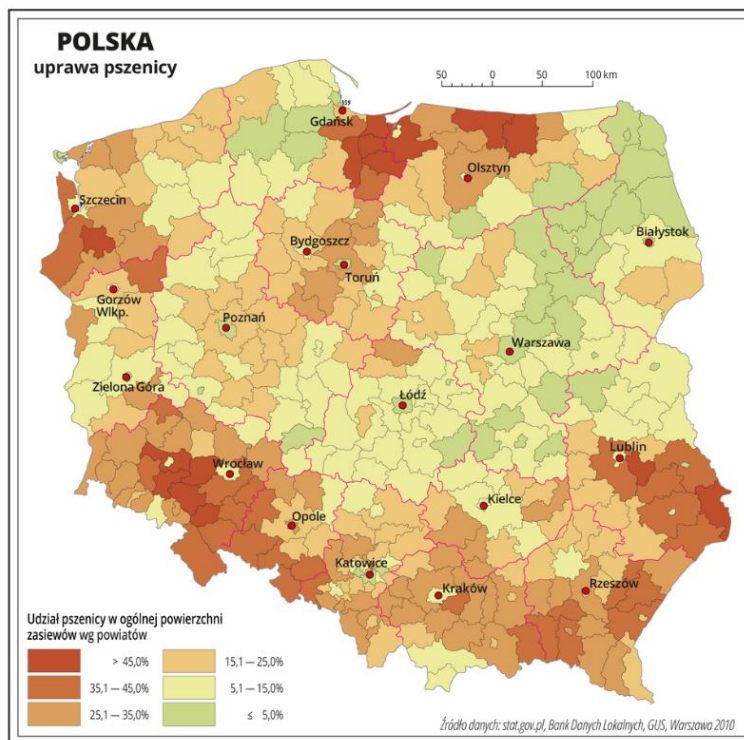
Źródło: <https://zpe.gov.pl/a/cechy-klimatu-polski/DnhQBg0ed>

**Na podstawie mapy oraz własnej wiedzy oceń prawdziwość informacji. Wybierz P, jeśli informacja jest prawdziwa, lub F, jeśli jest fałszywa.**

1.	Izotermy w styczniu układają się w sposób zbliżony do przebiegu równoleżników	<b>P</b>	<b>F</b>
2.	Najniższe temperatury stycznia występują w pasie północnego wybrzeża	<b>P</b>	<b>F</b>
3.	Średnie miesięczne temperatury powietrza w styczniu w Karkonoszach są wyższe niż na Pojezierzu Mazurskim	<b>P</b>	<b>F</b>

**Zadanie 13 (2 pkt)**

Na mapie przedstawiono rozmieszczenie upraw pszenicy.



Źródło: <https://zpe.gov.pl/a/rozmieszczenie-upraw-na-terenie-polski/DtSQtj4HO>

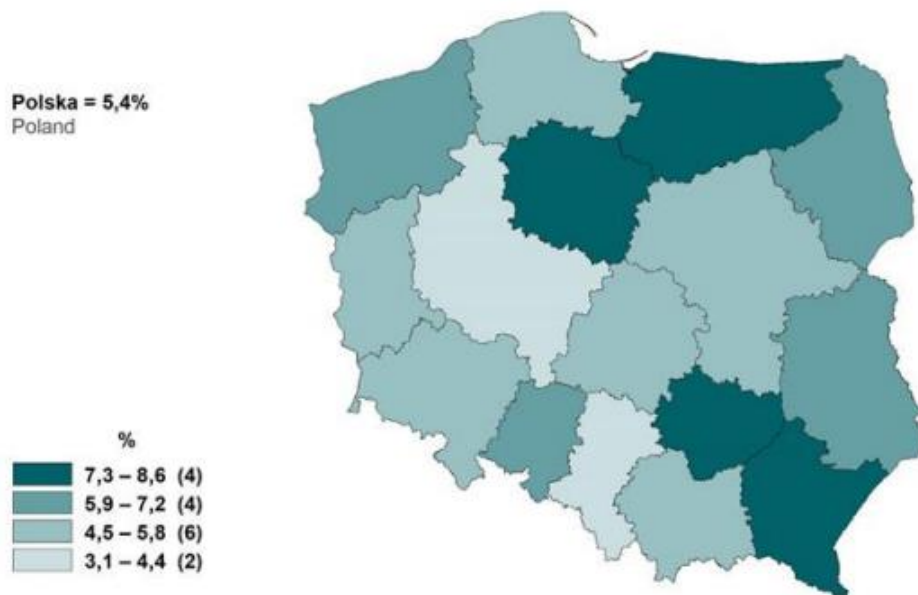
Na podstawie mapy oraz własnej wiedzy oceń prawdziwość informacji. Wybierz P, jeśli informacja jest prawdziwa, lub F, jeśli jest fałszywa.

1	Pszenica ma niskie wymagania glebowe	<b>P</b>	<b>F</b>
2	Wyżyna Lubelska jest jednym z głównych rejonem upraw pszenicy w Polsce	<b>P</b>	<b>F</b>
3	Jednym z głównych rejonów upraw pszenicy jest Nizina Podlaska	<b>P</b>	<b>F</b>
4	Żuławy Wiślane są ważnym rejonem uprawy pszenicy	<b>P</b>	<b>F</b>



**Zadanie 14 (1 pkt)**

Mapa przedstawia stopę bezrobocia (*stosunek liczby osób bezrobotnych do liczby ludności aktywnej zawodowo*) – stan w końcu grudnia 2021 roku.



Źródło: *Bezrobocie rejestrowane. I-IV kwartał 2021 roku*, GUS, Warszawa 2022

1. Wpisz do tabeli nazwy województw, w których stopa bezrobocia jest najwyższa (7,3-8,6%)
2. Wpisz numery tych czterech województw na mapie

	województwo
1	
2	
3	
4	