

Zadania egzaminacyjne – GEOGRAFIA – wersja A

kod ucznia.....

Punkty...../ 20

Zadanie 1 (2 pkt)



Oceń, czy podane informacje są zgodne z prawdą. Zaznacz literę P, jeśli informacja jest prawdziwa lub literę F – jeśli jest fałszywa.

1.	Bieszczady to najwyższe pasmo górskie Sudetów	P	F
2.	Na Wyżynie Śląskiej eksploatowany jest węgiel kamienny	P	F
3.	Pojezierze Mazurskie to krajobraz młodoglacjalny	P	F
4.	Charakterystycznym elementem Karkonoszy są łąki górskie czyli połoniny	P	F

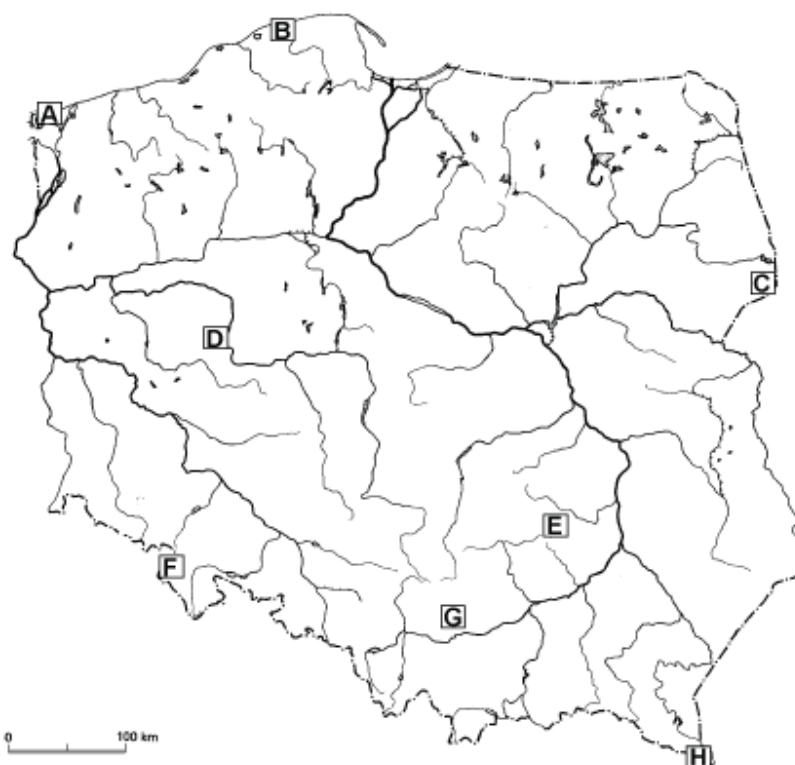
Zadanie 2. (2 pkt)

Oceń, czy podane informacje są zgodne z prawdą. Zaznacz literę P, jeśli informacja jest prawdziwa lub literę F – jeśli jest fałszywa.

1	Roczne amplitudy powietrza w klimacie morskim są niskie	P	F
2	Wilgotność powietrza w klimacie morskim jest niska	P	F
3	Roczna suma opadów w klimacie kontynentalnym jest wysoka	P	F
4	Polska położona jest w klimacie umiarkowanym ciepłym	P	F



Zadanie 3 (2 pkt)

Na mapie zaznaczono literami od A do H położenie wybranych parków narodowych w Polsce.



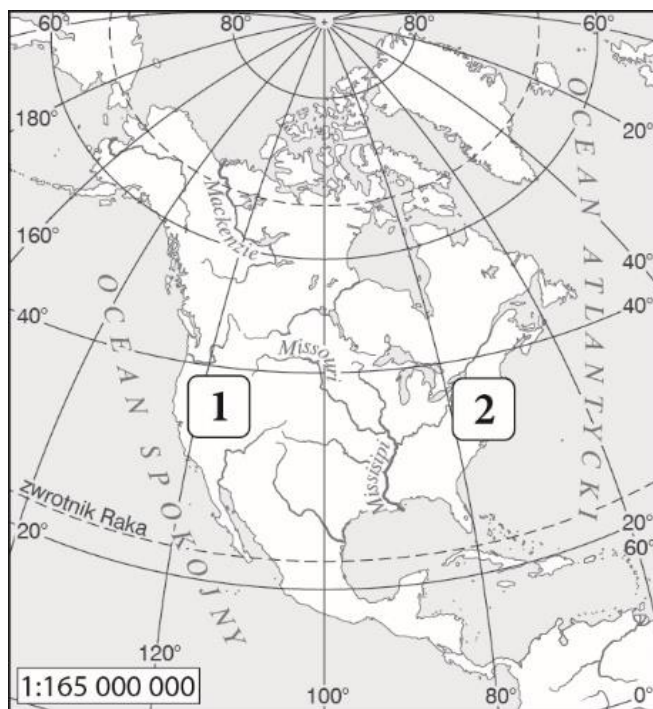
Rozpoznaj parki narodowe na podstawie charakterystycznych elementów ich środowiska przyrodniczego. Wpisz do tabeli nazwy tych parków oraz litery, którymi oznaczono ich położenie na mapie.

Wybierz spośród poniższych: Bieszczadzki, Karkonoski, Ojcowski, Świętokrzyski, Białowiecki, Słowiński, Woliński, Wielkopolski, Gór Stołowych, Kampinoski, Ujścia Warty, Magurski, Pieniński, Babiogórski, Wigierski, Woliński.

	Charakterystyczne elementy środowiska przyrodniczego parku narodowego	Nazwa parku narodowego	Litera na mapie
1	<p>Ostańce krasowe, np. Maczuga Herkulesa</p> 		
2	<p>Wydmy ruchome, jeziora przybrzeżna, np. Jezioro Łebsko</p> 		

Zadanie 4. (2 pkt)

Na mapie konturowej Ameryki Północnej zaznaczono dwa obszary. Określ, czy są to regiony o dużej, czy o małej gęstości zaludnienia. Podaj przyczynę takiej sytuacji.



1. Region o gęstości zaludnienia.

Przyczyna:

.....

2. Region o gęstości zaludnienia.

Przyczyna:

.....

Zadanie 5. (2 pkt)

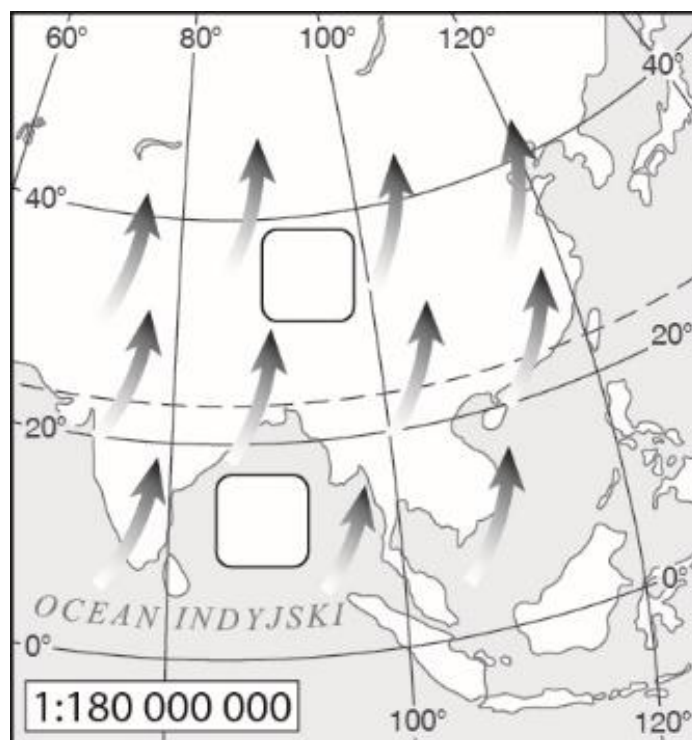
Przyporządkuj krainom geograficznym Polski charakterystyczne dla nich formy rzeźby.

1. Pobrzeże Koszalińskie	A. doliny U-kształtne i jeziora cyrkowe
2. Pojezierze Mazurskie	B. jeziora przybrzeżne i mierzeje
3. Tatry	C. moreny czołowe i sandry
	D. wąwozy lessowe i gołoborza

1. 2. 3.

Zadanie 6 (2 pkt)

Na ilustracji przedstawiono kierunek napływu monsunu.



- a) Wpisz w odpowiednie miejsca **W** (wyż baryczny) i **N** (niż baryczny), tak aby ilustracja obrazowała układ ciśnienia charakterystyczny dla tego wiatru.
- b) Skreśl błędne informacje w podanych zdaniach.
- A. Ilustracja przedstawia monsun *letni* / *zimowy*, który przynosi *obfite* / *skąpe* opady deszczu.
- B. Cyrkulacja monsunowa odgrywa dużą rolę w kształtowaniu się klimatu w **Azji Południowo-Zachodniej** / **Południowo-Wschodniej**.

Zadanie 7 (1 pkt)

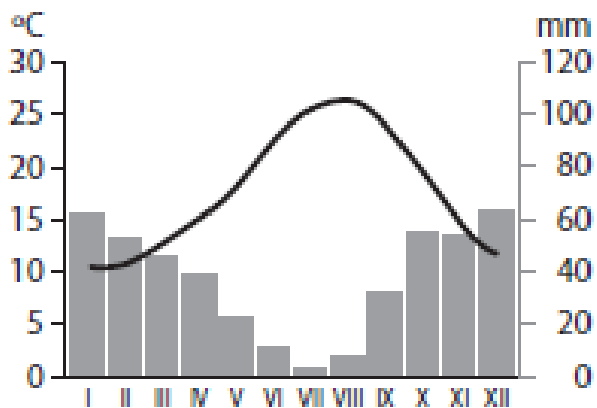
Podaj, które spośród podanych miast stanowią zespół miejski typu aglomeracja policentryczna.

- A. Łódź
- B. Katowice, Chorzów, Bytom, Sosnowiec
- C. Gdańsk, Gdynia, Sopot
- D. Warszawa

Aglomeracja policentryczna – litery

Zadanie 8. (1 pkt)

Na podstawie klimatogramu i własnej wiedzy zaznacz poprawne dokończenia zdania.



Klimatogram przedstawia dane charakterystyczne dla klimatu

- A. zwrotnikowego suchego.
- B. podzwrotnikowego morskiego.
- C. podrównikowego.
- D. równikowego wybitnie wilgotnego.

Zadanie 9 (1 pkt)

Podaj dwa skutki niskiego przyrostu naturalnego.

1.
.....
.....
2.
.....
.....

Zadanie 10. (2 pkt)

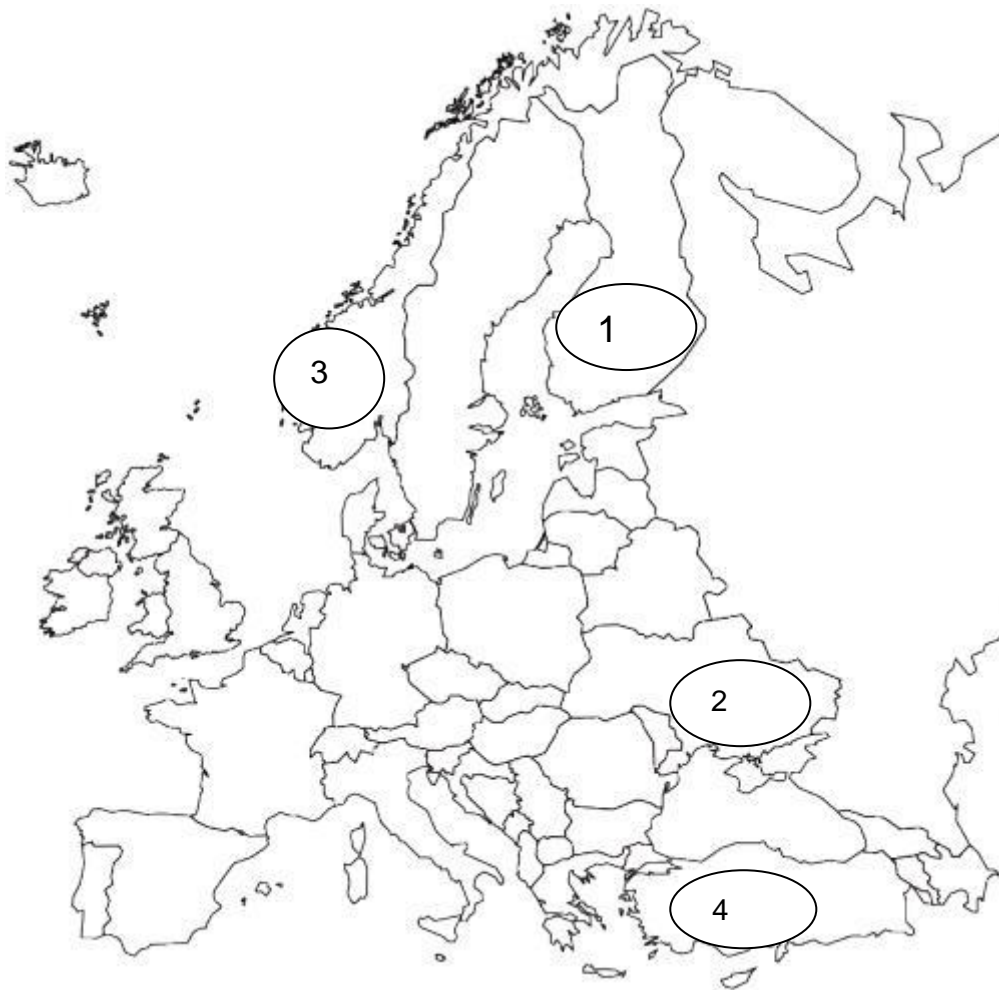
Podpisz nazwy zaznaczonych krajów.

1.....2.....

3.....4.....

Podaj, które z nich należą do Unii Europejskiej:

.....



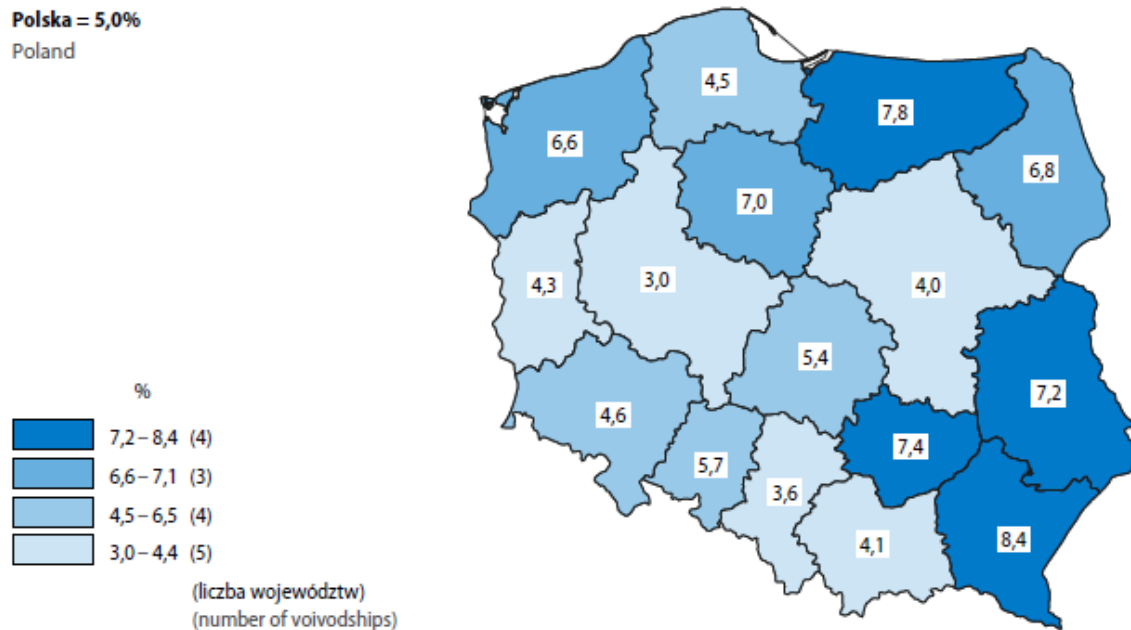
Zadanie 11. (2 pkt)

Mapa przedstawia stopę bezrobocia (stosunek liczby osób bezrobotnych do liczby ludności aktywnej zawodowo) – stan w końcu września 2024 roku.

Stopa bezrobocia rejestrowanego
stan w końcu września 2024 r.

Registered unemployment rate
as of the end of September 2024

Polska = 5,0%
Poland



Źródło: *Sytuacja społeczno-gospodarcza kraju – 09/2024, 1–3 kwartał 2024 r.*

Wpisz do tabeli nazwy województw, w których stopa bezrobocia wynosi:

Stopa bezrobocia w %	Województwo
8,4	
7,8	
7,4	
7,2	

Zadanie 12 (1 pkt)

Na mapie zaznaczono cztery polskie miasta. Podkreśl nazwę miasta, w którym latem dzień jest najdłuższy.

- a) Gdańsk b) Poznań c) Kraków d) Lublin

