


Zadania egzaminacyjne - HISTORIA - wersja A

kod ucznia.....

Punkty...../20

Zadanie 1. (1 pkt)

Rozpoznaj cywilizację, w której powstał rodzaj pisma przedstawiony na ilustracji:



.....

Zadanie 2. (1 pkt)

Uporządkuj chronologicznie wydarzenia (od najstarszego - nr 1, do najmłodszego - nr 4):

- A. Śmierć Aleksandra Wielkiego
- B. Upadek cesarstwa zachodniorzymskiego
- C. Bitwa pod Maratonem
- D. Powstanie chrześcijaństwa

Zadanie 3. (1 pkt)

Wyjaśnij pojęcia:

limes.....
.....

hoplon.....
.....

Zadanie 4 (1 pkt)

Podaj nazwę państwa przedstawionego na mapie:



.....

Zadanie 5 (1 pkt)

Zapoznaj się z tekstem źródłowym i odpowiedz na pytanie:

Kiedy [...] miał lat czterdzieści, posłał go Bóg jako proroka [...]. Jego dar proroczy zaczął się od tego, że miewał on prawdziwe objawienia we śnie [...] i że jął kochać ponad wszystko samotność. Prorok zwykł był jeden miesiąc corocznie przepędzać w miejscowości Hira, był zaś zwyczaj u Korejszytów [...] poczytywać to za pokutę [...]. Skoro więc przyszedł rok jego posłannictwa, udał się jak zwyczajnie z rodziną swą w miesiącu Ramadan do Hiry. W nocy [...] przyniósł mu Gabriel rozkaz Boga.

Postacią, której według przekazu miał ukazać się archanioł Gabriel jest:

.....

Zadanie 6. (1 pkt)

Zaznacz właściwą odpowiedź:



Ilustracja przedstawia okręt:

- A. grecki
- B. rzymski
- C. arabski
- D. wikingi

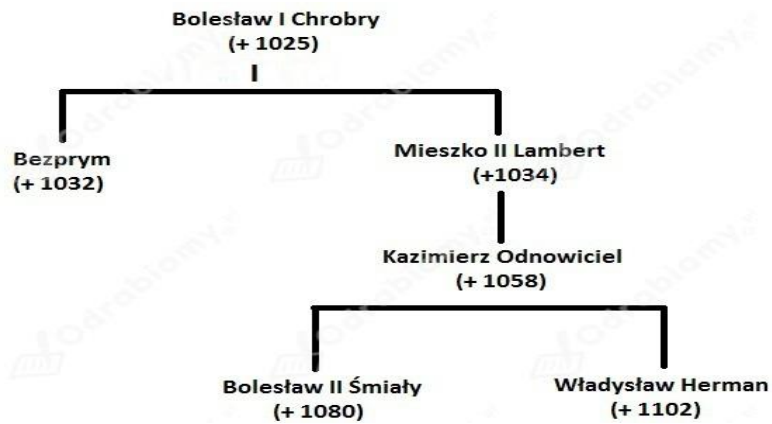
Zadanie 7. (1 pkt)

Zaznacz zdanie fałszywe:

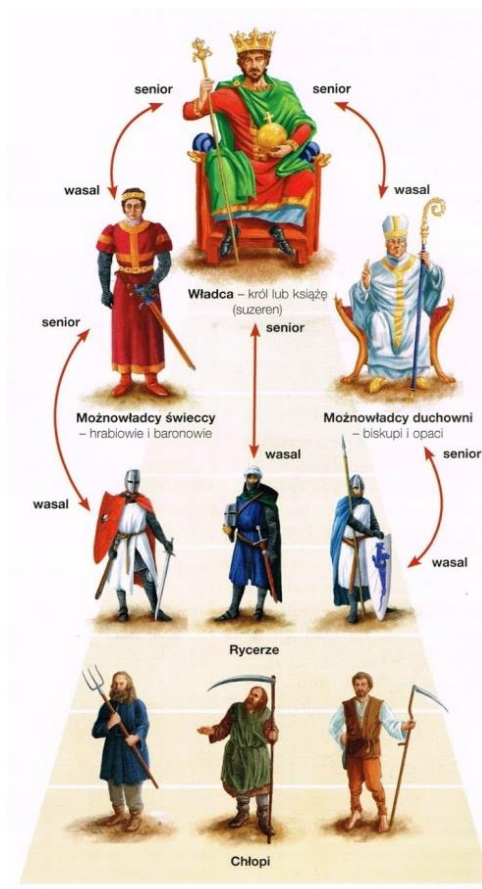
- A. Pierwsza krucjata zakończyła się zdobyciem Jerozolimy w 1099 roku
- B. W czasie wypraw krzyżowych powstały takie zakony rycerskie jak: templariusze, krzyżacy i joannici
- C. Ostatnią twierdzą krzyżowców na Bliskim Wschodzie była Akka utracona w 1226 roku

Zadanie 8. (1 pkt)

Na podstawie wiedzy własnej i informacji z drzewa genealogicznego Piastów wymien koronowanych władców Polski:



Zadanie 9. (1 pkt)



Podpisz ilustrację:

Zadanie 10 (1 pkt)



Nazwij styl architektoniczny przedstawiony na fotografii:

.....

Zadanie 11 (2 pkt)

Wyjaśnij pojęcia:

wolna elekcja -

husaria -

magnateria -

Zadanie 12 (1 pkt)

Zaznacz właściwy ciąg chronologiczny:

A - bitwa pod Wiedniem - Panowanie Wettinów w Polsce - I rozbiór Rzeczypospolitej

B - I rozbiór Rzeczypospolitej - bitwa pod Wiedniem - Panowanie Wettinów w Polsce

C - Panowanie Wettinów w Polsce - bitwa pod Wiedniem - I rozbiór Rzeczypospolitej

Zadanie 13 (1 pkt)

Podaj imię i nazwisko postaci przedstawionej na ilustracji:



.....

Zadanie 14 (1 pkt)

Przeczytaj tekst pieśni i odpowiedz, w czasie którego powstania narodowego powstał:

*Oto dziś dzień krwi i chwały,
Oby dniem wskrzeszenia był
W gwiazdę Francji Orzeł Biały
Patrząc, lot swój w niebo wzbił*

*A nadzieją podniecany
Woła do nas z górnych stron
„Powstań Polsko, skrusz kajdany,
Dziś twój tryumf albo zgon.*

Odpowiedź: powstanie

Zadanie 15 (1 pkt)

Podaj nazwy trzech państw należących do ententy:

1.....

2.....

3.....

Zadanie 16 (1 pkt)

Podaj nazwisko dowódcy obrony Westerplatte:

.....

Zadanie 17 (2 pkt)

Wyjaśnij pojęcia:

układ dwubiegunowy

.....

.....

polski październik

.....

.....

Zadanie 18 (1 pkt)

Podaj datę częściowo wolnych wyborów, które uważa się za koniec komunizmu w Polsce:

.....