


**Zadania egzaminacyjne – HISTORIA – wersja A**

kod ucznia.....

Punkty...../ 20

**Zadanie 1. (1 pkt)**

Podaj nazwę cywilizacji, której zabytek przedstawiony jest na ilustracji.

**Zadanie 2. (2 pkt)**

Przyporządkuj daty do wydarzeń.

A. Bitwa pod Maratonem

B. Pierwsze igrzyska olimpijskie

1) 753 p.n.e. 2) 490 p.n.e. 3) 776 p.n.e.

**Odpowiedź:**

A. .... B.....

**Zadanie 3. (1 pkt)**

**Wyjaśnij znaczenie słowa: demokracja.**

.....

.....

.....

.....

**Zadanie 4. (1 pkt)**

**Zaznacz właściwą odpowiedź.**

Podboje Arabów		
1. obejmowały teren kilku kontynentów	ponieważ	A. zajęli oni tereny dzisiejszej Hiszpanii
2. obejmowały teren Europy		B. ich państwo graniczyło z Frankami i Indiami

**Zadanie 5. (1 pkt)**

**Zapoznaj się z tekstem źródłowym i zaznacz właściwą odpowiedź.**

*[...]objąwszy księstwo, zaczął dawać dowody zdolności umysłu i sił cielesnych i coraz częściej napastować ludy [sąsiednie] dookoła. Dotychczas jednak w takich pogrążony był błędach pogaństwa, że wedle swego zwyczaju siedmiu żon zażywał. W końcu zażądał w małżeństwo jednej bardzo dobrej chrześcijanki z Czech, imieniem Dąbrówka*

**Wydarzenie opisane w tekście dotyczy:**

1. wojny z Czechami
2. wojny z Niemcami
3. chrztu Polski

**Zadanie 6. (1 pkt)**

**Zaznacz zdanie fałszywe.**

1. Chrzest Polski miał miejsce w X wieku
2. Polacy przyjęli chrzest w obrządku prawosławnym
3. pierwszym chrześcijańskim królem Polski był Bolesław Chrobry

**Zadanie 7. (1 pkt)**



**Nazwij uroczystość przedstawioną na ilustracji.**

.....

**Zadanie 8. (1 pkt)**



**Przedstawiona ilustracja ukazuje architekturę:**

a) renesansu

b) baroku

**Zadanie 9. (2 pkt)**

**Wyjaśnij pojęcia.**

sejm elekcyjny -

.....  
.....

żupan –

.....  
.....

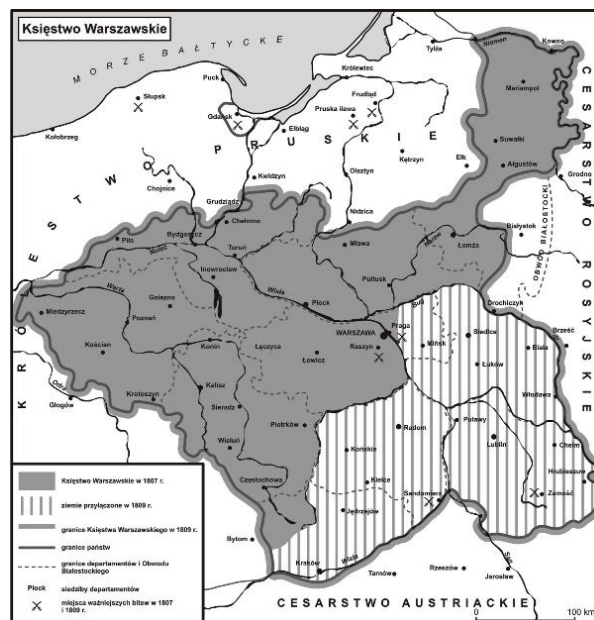
**Zadanie 10. (1 pkt)**

**Zaznacz właściwy ciąg chronologiczny.**

- A. III rozbiór Polski - powstanie Księstwa Warszawskiego - Powstanie Królestwa Polskiego
- B. powstanie Księstwa Warszawskiego - Powstanie Królestwa Polskiego - III rozbiór Polski
- C. Powstanie Królestwa Polskiego - III rozbiór Polski - powstanie Księstwa Warszawskiego

**Zadanie 11. (1 pkt)**

**Państwo przedstawione na mapie przestało istnieć po:**



a) kongresie wiedeńskim

b) powstaniu listopadowym

c) powstaniu styczniowym

**Zadanie 12. (1 pkt)**

Oceń, co należało do osiągnięć II Rzeczypospolitej.

Zaznacz P, jeśli informacja jest prawdziwa, lub F – jeśli jest fałszywa.

1.	budowa portu w Gdyni	<b>P</b>	<b>F</b>
2.	znaczne zmniejszenie wskaźnika analfabetyzmu	<b>P</b>	<b>F</b>
3.	budowa Centralnego Portu Komunikacyjnego	<b>P</b>	<b>F</b>

**Zadanie 13. (1 pkt)**

Podaj miejsce bitwy w Afryce Północnej w 1941 roku, w której brali udział Polacy.

.....

**Zadanie 14. (1 pkt)**

W czasie II wojny światowej nową bronią była broń (zaznacz właściwą odpowiedź):

- a) atomowa
- b) biologiczna
- c) chemiczna

**Zadanie 15. (1 pkt)**

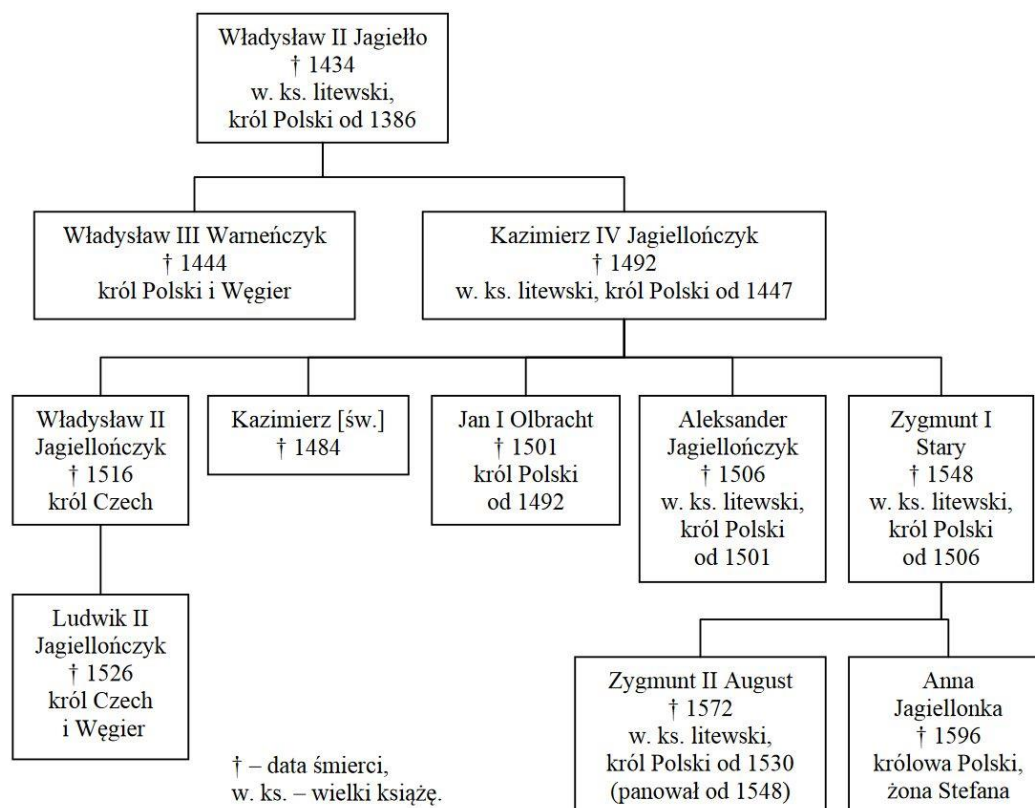
Uzupełnij zdanie:

II wojna światowa w Europie zakończyła się kapitulacją .....

8 maja 1945 roku.

**Zadanie 16. (1 pkt)**

Na podstawie drzewa genealogicznego zaznacz **P**, jeśli zdanie jest prawdziwe, lub **F** jeśli jest fałszywe.



1.	Anna Jagiellonka była wnuczką Władysława Jagiełły	<b>P</b>	<b>F</b>
2.	Władysław III Warneńczyk miał braci	<b>P</b>	<b>F</b>
3.	Kazimierz IV Jagiellończyk był ojcem trzech królów Polski	<b>P</b>	<b>F</b>


**Zadanie 17. (1 pkt)**

Podaj nazwisko pierwszego prezydenta Polski wybranego w wyborach powszechnych po upadku komunizmu

.....

**Zadanie 18. (1 pkt)**

**Na fotografii przedstawiony jest:**



a) Józef Stalin

b) Winston Churchill

c) Władysław Anders