


**Zadania egzaminacyjne – HISTORIA – wersja B**

kod ucznia.....

Punkty...../ 20

**Zadanie 1. (1 pkt)**

Podaj nazwę cywilizacji, której zabytek przedstawiony jest na ilustracji.

**Zadanie 2. (2 pkt)**

Przyporządkuj daty do wydarzeń.

A. śmierć Cezara

B. upadek cesarstwa zachodniorzymskiego

1) 44 r. p.n.e.    2) 476 r.    3) 331 r. p.n.e.

Odpowiedź:

A. .... B.....

**Zadanie 3. (1 pkt)**

**Wyjaśnij znaczenie słowa hieroglify.**

.....

.....

.....

.....

**Zadanie 4 (1 pkt)**

**Zaznacz właściwą odpowiedź.**

Państwo Franków		
1. uległo rozpadowi w 843 roku	ponieważ	a. zostało zniszczone przez Wikingów
2. przestało istnieć w 800 roku		b. zostało podzielone pomiędzy braci

**Zadanie 5 (1 pkt)**

**Zapoznaj się z tekstem źródłowym i zaznacz właściwą odpowiedź.**

*"[...] cesarz Otto [...] przybył do [grobu] św. Wojciecha dla modlitwy i pojednania, a zarazem w celu poznania sławnego Bolesława, jak o tym można dokładnie wyczytać w księdze o męczeństwie [tego] świętego. Bolesław przyjął go zaszczycie i okazale, jak wypadło przyjąć króla, cesarza rzymskiego i dostojnego gościa. Albowiem na przybycie cesarza przygotował przedziwne [wprost] cuda; najpierw hufce przeróżne rycerstwa, następnie dostojników rozstawił jak chóry na obszernej równinie, a poszczególne, z osobna hufce wyróżniała odmienna barwa strojów"*

**Wydarzenie opisane w źródle dotyczy:**

- a) chrztu Polski
- b) zjazdu w Gnieźnie
- c) koronacji królewskiej Bolesława Chrobrego

**Zadanie 6. (1 pkt)**

**Zaznacz zdanie fałszywe.**

1. Mieszko I był pierwszym władcą Polski, który pojawia się w wielu źródłach historycznych
2. Mieszko II był królem Polski
3. Mieszko II był synem Mieszka I


**Zadanie 7. (1 pkt)**



**Nazwij wydarzenie przedstawione na ilustracji.**

.....

**Zadanie 8. (1 pkt)**



**Przedstawiona ilustracja ukazuje architekturę:**

a) klasycyzmu

b) baroku

**Zadanie 9. (2 pkt)**

**Wyjaśnij pojęcia.**

kontusz – .....

.....

pańszczyzna – .....

.....

**Zadanie 10. (1 pkt)**

**Zaznacz właściwy ciąg chronologiczny.**

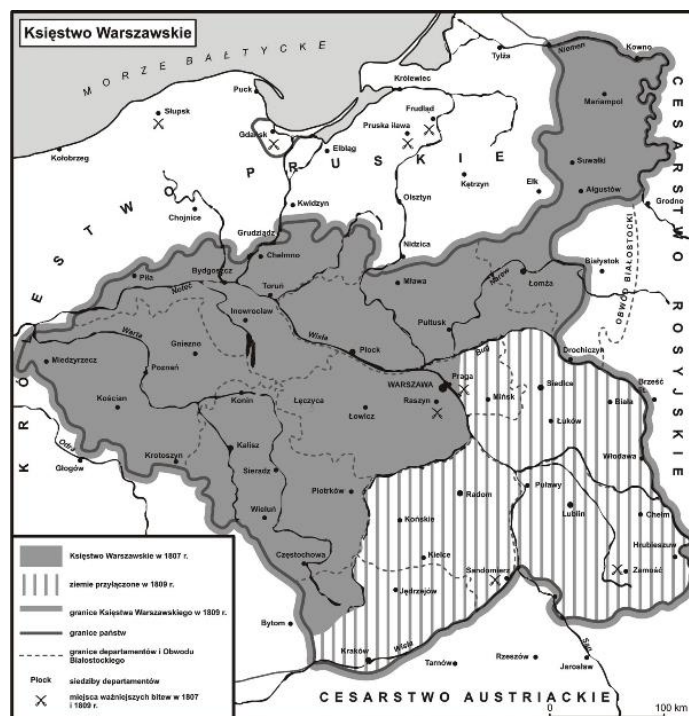
A - II rozbiór Polski - Powstanie Kościuszkowskie - III rozbiór Polski

B - Powstanie Kościuszkowskie - II rozbiór Polski - III rozbiór Polski

C - II rozbiór Polski - III rozbiór Polski - Powstanie Kościuszkowskie

**Zadanie 11. (1 pkt)**

**Państwo przedstawione na mapie powstało w roku.**



a) 1807

b) 1812

c) 1830

**Zadanie 12. (1 pkt)**

Oceń, co należało do osiągnięć II Rzeczypospolitej.

Zaznacz P, jeśli informacja jest prawdziwa, lub F – jeśli jest fałszywa.

1.	budowa portu w Gdańsku	<b>P</b>	<b>F</b>
2.	Budowa lotniska w Radomiu	<b>P</b>	<b>F</b>
3.	budowa Centralnego Okręgu Przemysłowego	<b>P</b>	<b>F</b>

**Zadanie 13. (1 pkt)**

Podaj miejsce bitwy w Norwegii w 1940 roku, w której brali udział Polacy.

.....

**Zadanie 14. (1 pkt)**

W czasie II wojny światowej nowym rodzajem broni nie były:

- a) samoloty odrzutowe
- b) lotniskowce
- c) karabiny maszynowe

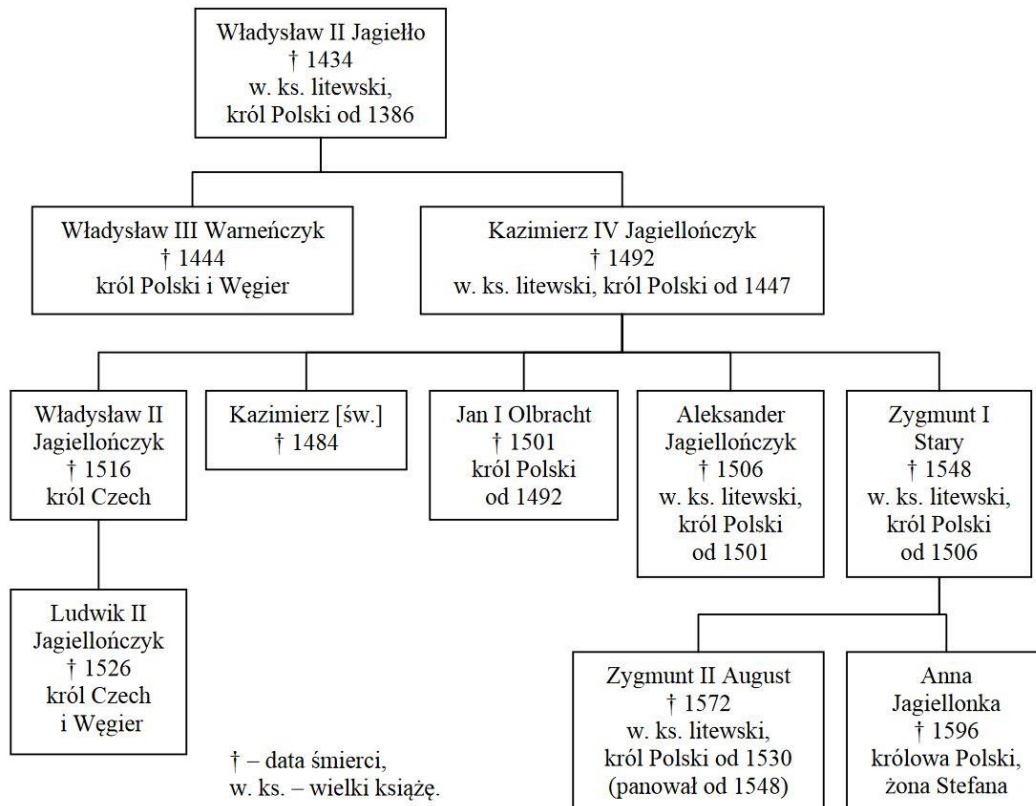
**Zadanie 15. (1 pkt)**

Uzupełnij zdanie:

II wojna światowa zakończyła się kapitulacją ..... 2 września 1945 roku.

**Zadanie 16. (1 pkt)**

Na podstawie drzewa genealogicznego zaznacz **P**, jeśli zdanie jest prawdziwe, lub **F** jeśli jest fałszywe.



1.	Anna Jagiellonka była siostrą Zygmunta II Augusta	<b>P</b>	<b>F</b>
2.	Władysław III Warneńczyk był drugim królem Polski z dynastii Jagiellonów	<b>P</b>	<b>F</b>
3.	Kazimierz IV Jagiellończyk był ojcem czterech królów	<b>P</b>	<b>F</b>

**Zadanie 17. (1 pkt)**

Podaj nazwisko pierwszego premiera Polski po upadku komunizmu.

.....

**Zadanie 18. (1 pkt)**

**Na fotografii przedstawiony jest:**



a) Józef Stalin

b) Winston Churchill

c) Władysław Anders